

101	111	105	103
112	108	115	110
106	114	100	117
107	116	119	113
104	109	102	118

30 · 3 → □ - 45 → □ : 9 → □ · 7 → □ + 35 → □ : 10 → □

100	10	1
200	20	2
300	30	3
400	40	4
500	50	5
600	60	6
700	70	7
800	80	8
900	90	9

899	*	901	*	*
*	*	580	581	*


Сотні	Десятки	Одиниці
* * *	* *	* * * *
		* * * *
	* * * *	
* * * *		* * *
* * *		* *
9	5	6
7	0	3
4	8	0



$$a \cdot 1 = a$$



$$a \cdot 0 = 0$$



### Знайди пару

$$5 \cdot 0 + 5$$

$$7 : 7 \cdot 9$$

$$1 \cdot 5 + 6 \cdot 2$$



$$8 + 1 \cdot 9$$

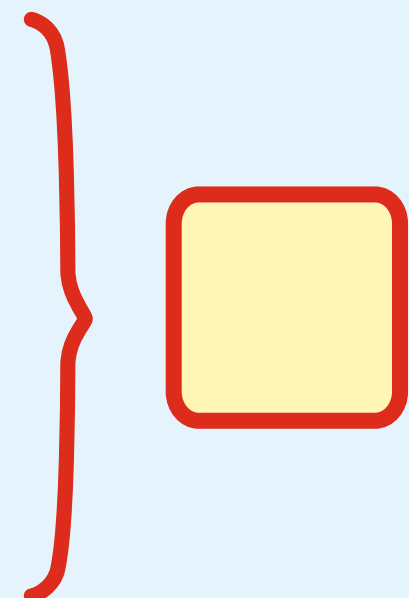
$$36 : (4 - 0)$$

$$35 : (7 + 0)$$

$$I - \square$$

$$II - ?, \text{ на } 45 \text{ більше, ніж } I$$

$$III - ?$$



$$100 - 2$$

$$705 + 5$$

$$158 + 2$$

$$325 - 25$$


$$202 - 2$$

$$324 + 6$$

$$600 + 200$$

$$397 - 90$$

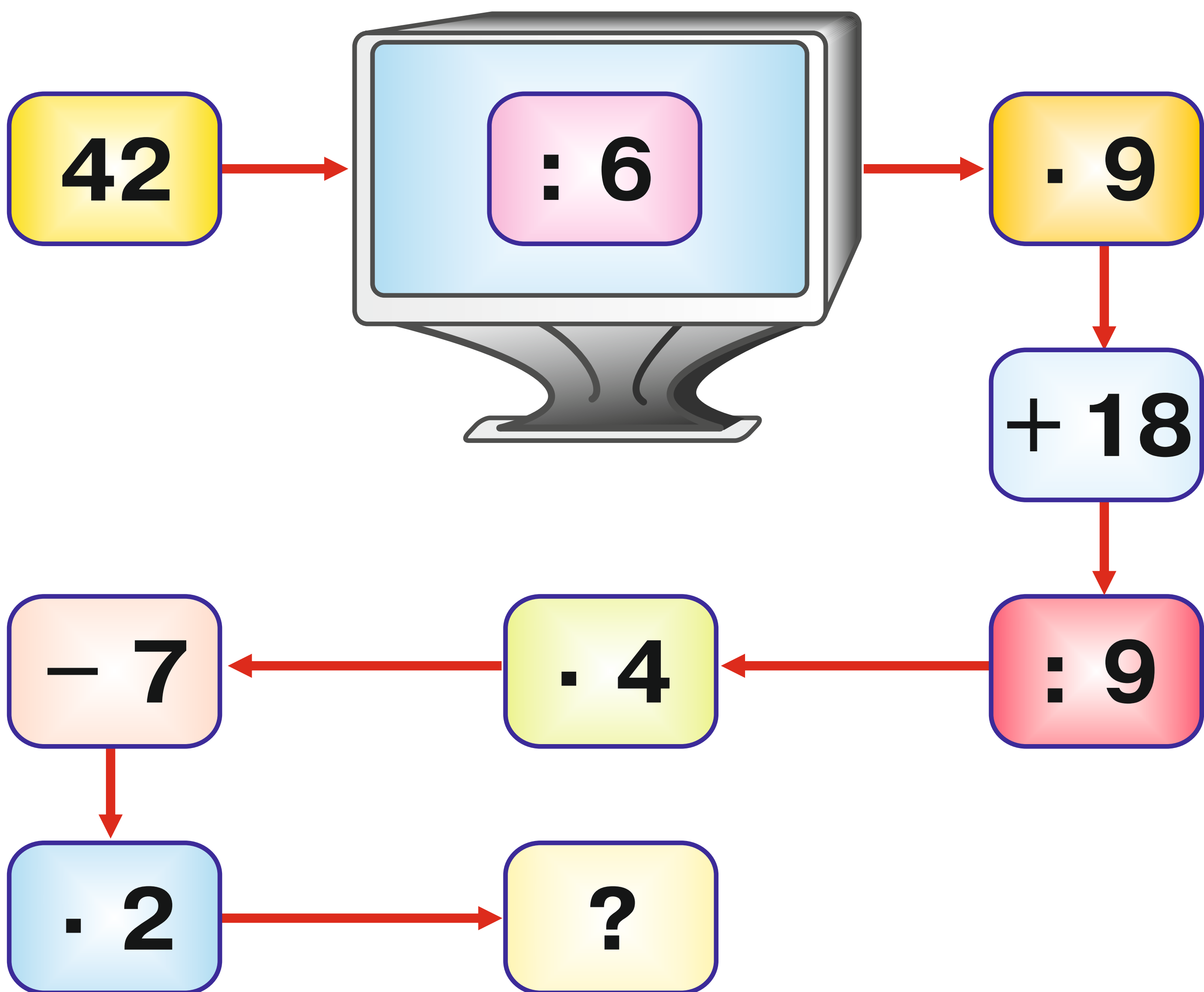

$$900 + 100$$



$$36 + 4 - \begin{matrix} 3 \\ 5 \\ 9 \\ 4 \end{matrix} \cdot \begin{matrix} 32 \\ 16 \\ 24 \\ 64 \end{matrix} : 8 - 3$$



$$\begin{array}{r} 891 \\ - 356 \\ \hline * 3 * \end{array} \quad \begin{array}{r} 702 \\ - 347 \\ \hline ** 5 \end{array} \quad \begin{array}{r} 249 \\ + 196 \\ \hline * 4 * \end{array} \quad \begin{array}{r} 532 \\ + 299 \\ \hline ** 1 \end{array}$$



$$40 + \square - \square = 20$$

$$+ \quad - \quad + \quad +$$

$$\square - 20 + 0 = \square$$

$$- \quad + \quad - \quad +$$

$$\square + \square - 60 = 60$$

$$= \quad = \quad = \quad =$$

$$10 + 50 - \square = 30$$



$$\begin{array}{r} \times 138 \\ 4 \\ \hline **2 \end{array}$$

$$\begin{array}{r} \times 106 \\ 7 \\ \hline 7** \end{array}$$

$$\begin{array}{r} \times 335 \\ 2 \\ \hline *7* \end{array}$$

$$\begin{array}{r} \times 237 \\ 3 \\ \hline **1 \end{array}$$

Потягом — 425 км

Автобусом — ?, у 5 разів менше, ніж потягом

Пішки — ?, на 37 км менше, ніж автобусом

$$\square : \square - \square = \square \text{ (км)}$$

$$\begin{array}{r} 729 \overline{) 3} \\ 6 \overline{) 24} * \\ \hline 12 \\ \hline 12 \end{array}$$

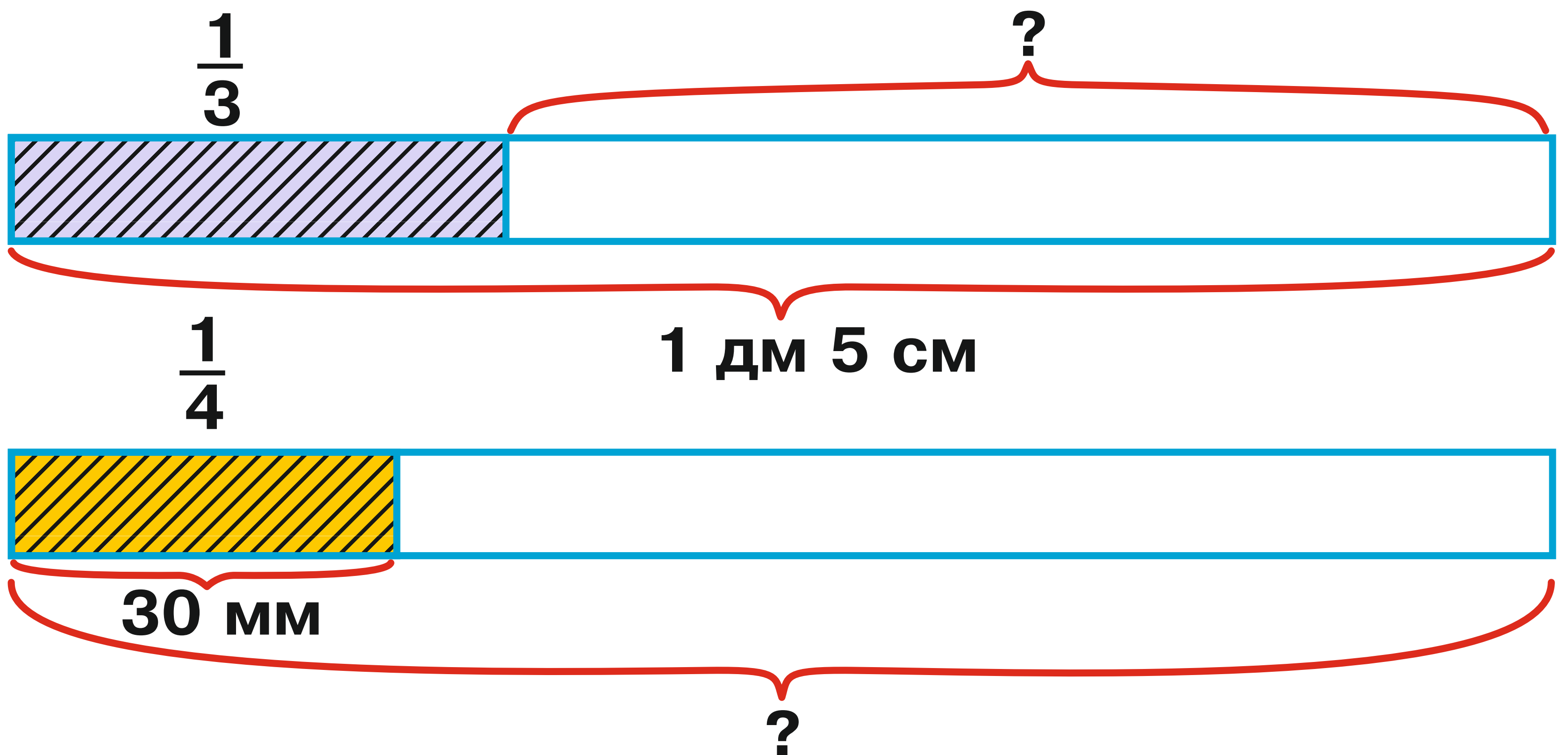
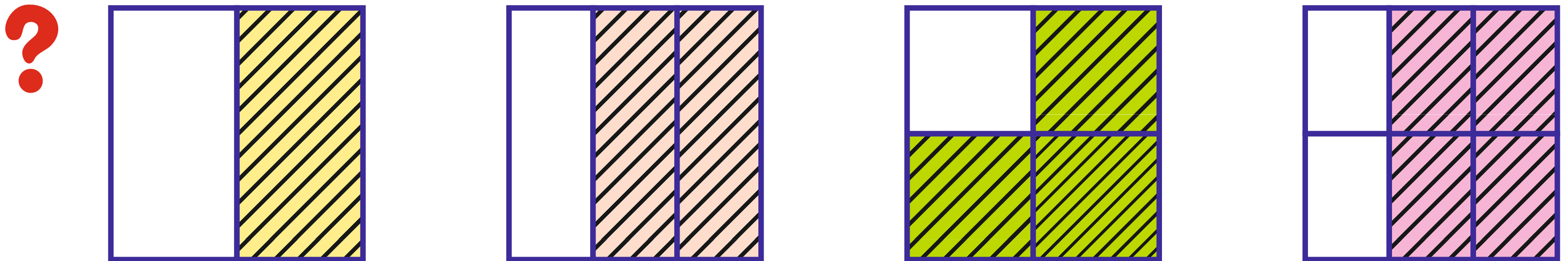
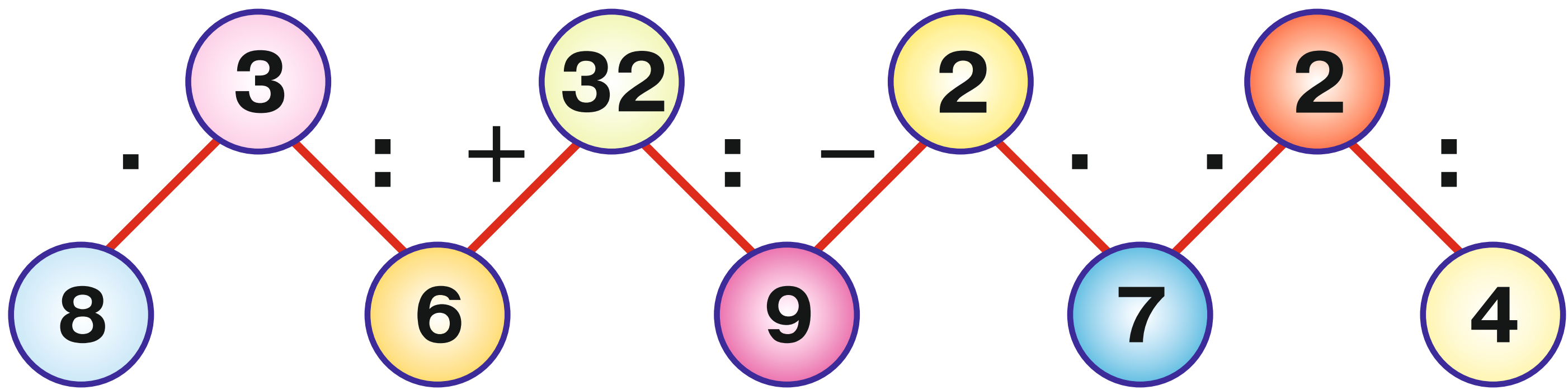

$$\begin{array}{r} 852 \overline{) 2} \\ 8 \overline{) 4} ** \\ \hline 5 \end{array}$$


$$\begin{array}{r} 471 \overline{) 3} \\ 3 \overline{) 1} ** \end{array}$$

$$\begin{array}{r} 504 \overline{) 6} \\ 48 \overline{) **} \end{array}$$

Назва товару	Ціна	Кількість	Вартість
	80 грн.	4	однакова
	40 грн.	?	

$$80 \square 4 \square 40 = \square (\text{ш.})$$





15 - 8  
60 : 6  
24 : 4

0 · 6  
6 : 6  
3 · 6

16 - 6  
1 · 6  
160 - 100

6 - 6  
48 - 42  
42 : 3

54 : 9  
40 - 36  
28 : 7

180 : 6  
20 - 14  
30 : 10



	В одному ящику	Кількість ящиків	Всього (кг)
	28 кг	5	} ?
	27 кг	7	

