




10 гривень




Скільки гривень?

Ціна предметів умовна.



4 гривні



Скільки гривень?

Ціна предметів умовна.


3 гривні



Скільки гривень?



1,5 гривні
(півтори гривні)



Скільки гривень?

