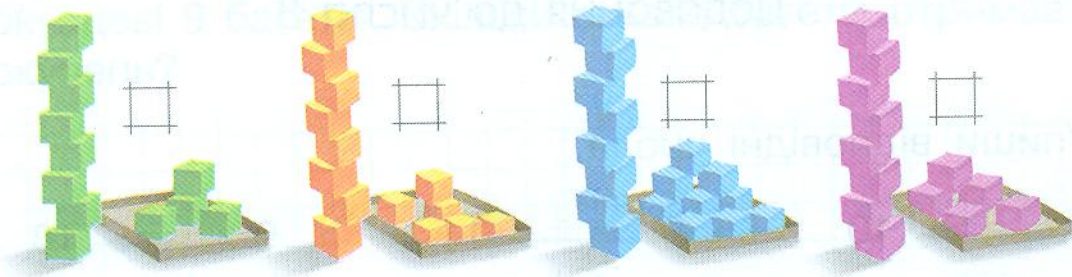


3. Скільки кубиків залишиться в кожній коробці, якщо доповнити вежі до 10 кубиків? Запиши.



4. Зобрази кожен результат за допомогою паличок за зразком.

Зразок: $8 + 4$



$8 + 5$



$8 + 9$



$8 + 7$



$8 + 6$



$8 + 8$



5. Обчисли вирази, записуючи зверху проміжні значення.

$0 + 8 + 6$

$8 + 7 + 2$

$18 - 10 + 8$

$1 + 7 + 8$

$8 + 3 + 1$



$19 - 11 + 5$

$2 + 6 + 9$

$4 + 8 - 10$

$9 + 8 - 15$

6. Побачивши мишу, кіт Мурко пробіг за нею 8 м прямо, а потім — 8 м праворуч. Яку відстань пробіг кіт Мурко за мишею?



7. Упиши відповідні числа.

$$8 + 3 > \begin{array}{|c|c|} \hline & \\ \hline & \\ \hline & \\ \hline & \\ \hline \end{array}$$

$$9 + 2 < \begin{array}{|c|c|} \hline & \\ \hline & \\ \hline & \\ \hline & \\ \hline \end{array}$$

$$\begin{array}{|c|c|} \hline & \\ \hline & \\ \hline & \\ \hline & \\ \hline \end{array} > 8 + 8$$

$$4 + 8 < \begin{array}{|c|c|} \hline & \\ \hline & \\ \hline & \\ \hline & \\ \hline \end{array}$$

$$5 + 9 > \begin{array}{|c|c|} \hline & \\ \hline & \\ \hline & \\ \hline & \\ \hline \end{array}$$

$$\begin{array}{|c|c|} \hline & \\ \hline & \\ \hline & \\ \hline & \\ \hline \end{array} < 9 + 9$$

8. Данило зібрав колекцію фігурок родини котячих: 2 тигри, 3 пантери, 3 рисі та 5 гепардів. Скільки всього звірів у колекції Данила? Познач число.



тигр



пантера




рись



гепард



9. Леви також належать до родини котячих. Зібралася якась уся родина левів: 1 лев, 3 левиці та 8 левенят. Скільки всього тварин налічується в родині левів?



10. Протягом тижня левиця 2 дні полювала, а решту днів відпочивала. Скільки днів упродовж тижня левиця відпочивала? \square _____. Поясни. _____

11. У двох левиць разом народилося 5 левенят. Чи правда, що одна левиця народила на чотирьох левенят більше, ніж інша? _____