

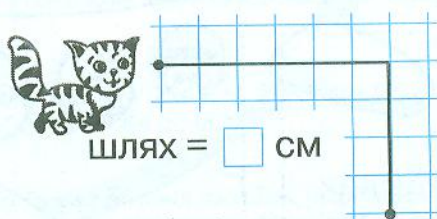
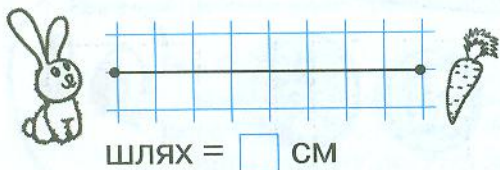



1. Обчисли і запиши довжину шляху кожної тварини до її їжі.

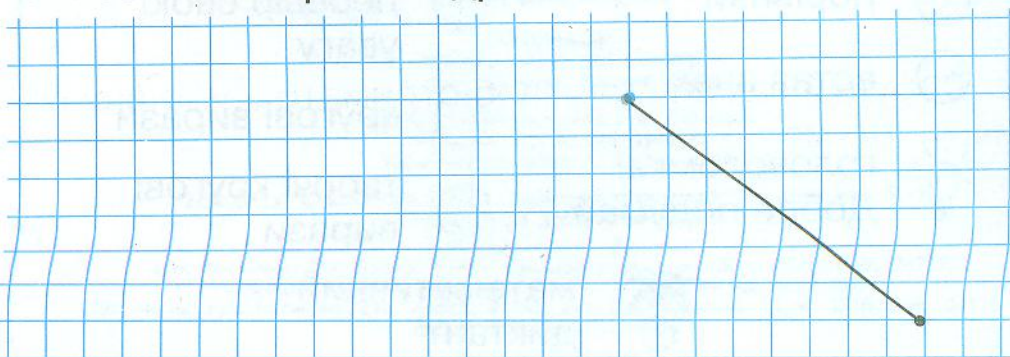


2. Виміряй довжину відрізка.



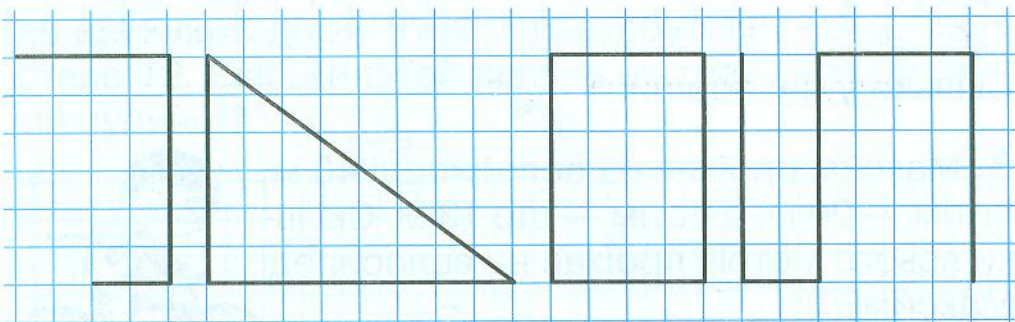
Накресли другий відрізок так, щоб один із них був на 1 см довший від іншого. Знайди два способи.

3. Розглянь перший відрізок.



Від синьої точки накресли другий відрізок так, щоб довжина утвореної ламаної становила 1 дм.

4. Запиши для кожної ламаної кількість її вершин і ланок. Знайди довжини ламаних у сантиметрах.



1)	2)	3)	4)
ланок — <input type="text"/>	ланок — <input type="text"/>	ланок — <input type="text"/>	ланок — <input type="text"/>
вершин — <input type="text"/>	вершин — <input type="text"/>	вершин — <input type="text"/>	вершин — <input type="text"/>
довжина — <input type="text"/> <input type="text"/> см	довжина — <input type="text"/> <input type="text"/> см	довжина — <input type="text"/> <input type="text"/> см	довжина — <input type="text"/> <input type="text"/> см

Урок 54

Урок 63

1. Замкни кожну лінію так, щоб отримати:

круг	трикутник	трикутник	чотирикутник	п'ятикутник

2. Добудуй ламану так, щоб отримати замкнену ламану, що має 6 ланок.

