



КРОК 7

Виконай усно

1 Про що розповідає Поспішайко? А про що Мрійниця? Допоможи їм.



2 Що зображено на малюнку? Прочитай числа третього десятка. Поясни, чому використані не всі числа.

Пн	Вт	Ср	Чт	Пт	Сб	Нд
1	2	3	4	5	6	7
8	9	10	11	12	13	14
15	16	17	18	19	20	21
22	23	24	25	26	27	28
29						

3 Чи кожен місяць має 28 днів?

4 Виконай дії.

$$\begin{array}{cccccc}
 7 - 5 & 9 - 3 & 30 - 10 & 3 + 6 & 20 + 10 \\
 27 - 5 & 39 - 3 & 37 - 10 & 13 + 6 & 23 + 10
 \end{array}$$

5 На годинниках показано час, коли прокидається мама, коли Даринка йде до школи, обідає, йде на тренування. Назви, в якій годині може відбуватися кожна дія.



6 Установи, скільки часу триває кожна подорож.

РОЗКЛАД		
ВИЛІТ	ПУНКТ ПРИЗНАЧЕННЯ	ПРИЛІТ
17:00		19:00
22:00		1:00

РОЗКЛАД		
ВІДПРАВЛЕННЯ	ПУНКТ ПРИЗНАЧЕННЯ	ПРИБУТТЯ
6:00		16:00
20:00		10:00

КРОК 8

Виконай усно

1 Діти позначили наліпками свою улюблену справу. Чим любить займатися найбільша кількість дітей?

Читання 

Спорт 

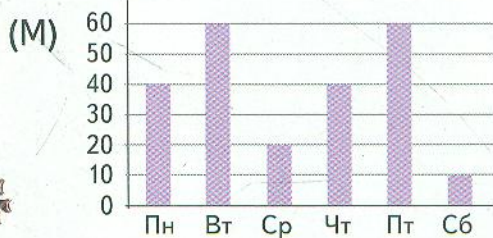
Моделювання 

Їжа 

2 У школі протягом тижня проводили благодійну виставку-продаж предметів дитячої творчості. Поспішайко (П) і Мрійниця (М) фіксували кількість відвідувачів і подали відомості так. Чи збігаються їхні дані?

(П)

Пн	Вт	Ср	Чт	Пт	Сб
40	60	20	40	50	10



3 Порівняй кількість відвідувачів у різні дні. Які висновки можна зробити?

4 Назви зображених тварин. Установи кількість кожної. Запиши отримані дані у зошит у вигляді таблиці чи схеми.

