

Г.В. Тучапська

СЕРІЯ “КАНІКУЛИ БЕЗ НУДЬГИ”

КАНІКУЛИ БЕЗ НУДЬГИ

Я ІДУ В 4-Й КЛАС!

- Спостерігаю, дізнаюсь
- Читаю
- Пишу грамотно
- Розв’язую
- Веду щоденник
- Розважаюсь
- Малюю, майструю, вишиваю
- Фотографую



Тернопіль
Навчальна книга — Богдан

ББК 74.26 я71
Т 92

Серію “Канікули без нудьги” започатковано 2010 року

Тучапська Г.В.

Т 92 Канікули без нудьги. Я іду в 4-й клас! —
Тернопіль: Навчальна книга — Богдан, 2010. — 104 с.: іл.
(Серія “Канікули без нудьги”).
ISBN 978-966-10-1141-9

Посібник призначений для учнів, які закінчили третій клас.

Пропоновані завдання з природознавства, математики, української мови, читання розподілено по тижнях і місяцях.

Працюючи з посібником, майбутній четвертокласник має змогу протягом літніх канікул не лише повторити і закріпити вивчений матеріал з основних предметів, але й на основі цікавих пізнавальних текстів, нестандартних творчих завдань розвинути увагу, пам’ять, мислення, розширити кругозір, цікаво провести своє дозвілля.

Посібник містить читацький щоденник, цікаві тести, зразки виробів для рукоділля та майстрування, сторінки для літнього фоторепортажу.

Робота з посібником сприятиме підготовці учнів до успішного навчання у четвертому класі.

ББК 74.26 я71

*Охороняється законом про авторське право.
Жодна частина цього видання не може бути відтворена
в будь-якому вигляді без дозволу автора чи видавництва.*

ISBN 978-966-10-1582-0 (серія)
ISBN 978-966-10-1141-9

© Навчальна книга — Богдан,
майнові права, 2010

Спостерігаю



Яка погода переважала першого літнього тижня? Результати спостережень внеси в календарик.

Умовні позначення:

○ – сонячно

◐ – хмарно

● – похмуро

•• – дощ

↗ – вітер

⚡ – гроза

△ – град

☀ – роса

≡ – туман

↔ Гра «Зоомагазин».

Яку їжу можуть «купити» тварини? З'єднай.

Метелики, бджоли
Ховрахи, миші, сойки, шишкарі, дятли
Чайки
Жаби, ластівки, ящірки, кажани
Білки
Вовки, лисиці, їжаки

зерно
нектар квітів
комах та їх личинки
рибу
слабших, менших тварин
бруньки, насіння ялин і сосен, ягоди, гриби, горіхи



Запиши, як пересуваються: шука, метелик, вовк, сорока, гадюка, дельфін, кит, миша, сова, заєць, ящірка, жаба, вуж, олень, коник.

Літають: _____

Бігають: _____


Стрибають: _____

Плавають: _____

Повзають: _____



«Посели» пташок у свої гнізда. Запиши назви птахів, які є на малюнку.



Най-най-най...

- Найморозостійкіші птахи — качки і гуси. Вони витримують температуру до 110 градусів морозу.
- Найвище літає журавель — 4,5 км.
- Найбільший розмах крил у альбатроса — більше 4 метрів.
- Найдовше може жити сокіл — до 150 років.
- Найбільший і найважчий птах на Землі — африканський страус — до 100 кг ваги і зросту 2,5 метра.
- Найменша із пташок у світі — колібрі. Довжина її 6 см, а маса — 1,5 грама.



Прочитай текст.

РАХУНОК

Одного вечора, коли мати готувала вечерю, одинадцятирічний син прийшов до кухні з аркушем у руці. З офіційним виглядом подав його мамі. Мати витерла руки і прочитала:

- Чищення стежки від бур'янів — 1 гривня;
- прибирання кімнати — 2 гривні;
- купування молока — 50 копійок;
- догляд за сестричкою (3 вечори) — 3 гривні;
- отримання відмінних оцінок (із двох предметів) — 5 гривень;
- викидання сміття щовечора — 2 гривні.

Разом — 13 гривень 50 копійок.

Мати зворушено подивилася синові у вічі. Її пам'ять переповнювали спомини. Мати взяла ручку і на зворотному боці картки написала:

- За те, що я носила тебе під серцем 9 місяців, — 0 гривень;
- за ночі, проведені коло твого ліжка, коли ти хворів, — 0 гривень;
- за хвилини, коли потішала тебе у смутку, — 0 гривень;
- за те, що витирала твої сльози, коли ти плакав, — 0 гривень;
- за те, що я навчала тебе день за днем, — 0 гривень;
- за всі сніданки, обіди, вечері, бутерброди до школи — 0 гривень;
- за все, що я даю тобі щоднини, — 0 гривень.

Разом — 0 гривень.

Мати закінчила писати й посміхаючись віддала аркуш синові. Той прочитав написане і на його очах виступили дві великі сльози.

Хлопець повернув аркуш і написав на своєму рахунку: «Сплачено». Потім кинувся мамі на шию і розцілував.



Дай відповіді на запитання.

- Яку свою послугу хлопчик оцінив найдорожче?
- Чому мати свою роботу оцінила на 0 гривень? Про що це свідчить?
 - Чому хлопчик написав на своєму рахунку: «Сплачено», заплакав і розцілував маму?
 - Чи можна порівняти роботу матері і хлопчика за 11 років його життя?

- Чи буде хлопчик колись писати такі рахунки матері, сестричці, дружині, дітям?
- Чого навчило тебе це оповідання? Який висновок ти зробив для себе?

! Поясни прислів'я.

- Нема того краму, щоб купити маму.
- Материн гнів, як весняний сніг: рясно впаде, та скоро розтане.
- На сонці добре сидіти, а коло мами добре жити.
- До людей — по розум, до матері — по серце.
- Сліпе щеня і те до матері лізе.
- У малого заболить пальчик, а у матері серце.

! Гра «Шифрувальник».

Розстав літери від 1 до 32 (1 — п, 2 — о, 3 — т і т.д.). Зрозумів? Прочитай і запиши речення.

21	6	7, 20	4, 16, 22, 27	19	1	14, 18, 31	8, 17	23	5, 13, 15
ю	к	и	і	ш	п	а	н	р	м

9	10, 30, 32	2, 24	11	25	3	26	28	12	29
у	в	о	с	з	т	ц	л	я	у

! Гра «Вилучи зайве».

Щиро любить матір той, хто...

- а) співає, як соловейко; б) спритний і сильний;
в) в усьому їй допомагає.

Пишу грамотно

 Спиши текст, вставляючи пропущені букви. Збери заголовок з розкиданих складів. Визнач час виділених дієслів.

Любо__ матері — в__лике диво з__млі, яке можна порівняти із з__леним дер__вом.

Росте дерево мат_ринської любові. *Росте* день за днем, літа за літами. Корін__я усе щедріше *рідниться* із землею і *дає* силу дітям. А кроною *мол__ться* до неба і *дарує* дітям світло.

Ma лю ка бов те ринсь

 Гра «Загубилися слова».

Добери слова з довідки. Вивчи вірш напам'ять.

Гарне слово

Мама! Мама! — гарне слово.
Тільки скажеш — все _____!
“Мамо, кашки!” — кашка є.
“Мамо, чаю!” — вже _____.
“Мамо, спатки!” — вже роздітий,
і у ліжку, і укритий.
“Мамо, ніжку зав’яжи!”
“Мамо, казку _____!”
Мама! Мама! — гарне _____.
Тільки скажеш — все готово!



Катерина Перелісна

Слова для довідки: готово, слово, розкажи, налле.

! Інтелектуальні ігри для розумників і розумниць.

В		Щ		І
	А		І	
У		Н		Ж
	Х		К	
Л		И		С

Користуючись кодом, розшифруй запис.

1. Перша буква розташована над трояндою.
2. Друга літера знаходиться над гніздечком. Поруч неї цуценя.
3. Ліворуч від третьої букви — усмінене кошеня.
4. Знайди наступну букву, що розмістилася поруч з повітряною технікою і є першою у її назві.
5. П'ята літера нагадує метелика і примостилася під ним.
6. Праворуч від наступної букви — тисячолітні піраміди.
7. Відшукай букву між літаком і кошенятком.
8. Ця літера розташувалася під гніздечком, але над літаком.
9. Наступна буква дивиться на автомобіль. Під нею симпатичне кошеня.
10. Запиши літеру ліворуч від троянди, але праворуч від цуценяти.
11. Ця літера знаходиться всередині між трояндою, пташкою, метеликом і водоспадом.
12. Дванадцята літера мріє полетіти з голубом, але утекти від вогню.
13. Ця буква боїться, щоб її не залила вода водоспаду, адже вона під ним.
14. Зверху допитливе цуценя, але праворуч мама буде житло для своїх діток.
15. Остання літера розмістилася у нижньому лівому куті.

Отже, _____ !



Математична абетка.

Обчисли вирази і знайди, яка буква в алфавіті відповідає результату.

$$\begin{aligned} 1 \cdot 9 + 8 &= \square \square \\ 2 \cdot 9 + 6 &= \square \square \\ 3 \cdot 7 - 15 &= \square \\ 3 \cdot 7 - 0 &= \square \square \\ 37 - 22 - 4 &= \square \square \\ 9 \cdot 9 - 64 &= \square \square \end{aligned}$$

$$\begin{aligned} 46 - 9 \cdot 2 - 10 &= \square \square \\ 8 \cdot 3 - 6 \cdot 2 &= \square \square \\ 66 - 4 \cdot 10 &= \square \square \\ 9 \cdot 8 - 7 \cdot 7 &= \square \square \\ 3 \cdot 9 - 48 : 6 &= \square \square \end{aligned}$$

$$46 - 9 \cdot 5 = \square$$

$$\begin{aligned} 81 - 9 \cdot 7 &= \square \square \\ 5 \cdot 6 - 23 &= \square \end{aligned}$$

$$\begin{aligned} 9 \cdot 10 - (39 + 48) &= \square \\ 18 : 2 + (81 - 69) &= \square \square \\ 17 + 18 - 32 : 2 &= \square \square \\ 9 \cdot 8 - (28 + 38) &= \square \\ 36 - 5 \cdot 5 &= \square \square \\ 18 \cdot 2 - (72 - 39) &= \square \\ 36 : 2 + (63 - 59) &= \square \square \\ 3 \cdot 9 + (73 - 67) &= \square \square \end{aligned}$$

$$\begin{aligned} 81 - 9 \cdot 7 &= \square \square \\ 73 - 8 \cdot 9 &= \square \\ 19 - 2 \cdot 8 &= \square \\ 3 \cdot 7 + 7 &= \square \square \\ 98 - 76 - 11 &= \square \square \\ 75 - 9 \cdot 8 &= \square \\ 58 - 9 \cdot 4 &= \square \square \\ 15 + 9 \cdot 2 &= \square \square \end{aligned}$$

а	б	в	г	г	д	е	є	ж	з	и	і	ї	й	к	л	м
1	2	3	4	5	6	7	8	9	10	11	12	13	14	15	16	17

н	о	п	р	с	т	у	ф	х	ц	ч	ш	щ	ь	ю	я
18	19	20	21	22	23	24	25	26	27	28	29	30	31	32	33

Склади і запиши вислів. _____



Розв'яжи задачу.

Маса 5 жучків-солдатикив 40 г. Яка маса 17 сонечок, якщо жук-солдатик важчий за сонечко на 2 г?

Дата _____

Розв'язую


1-й тиждень

Розв'язання

1) ○○○○○○

2) ○○○○○

3) ○○○○○○○○○

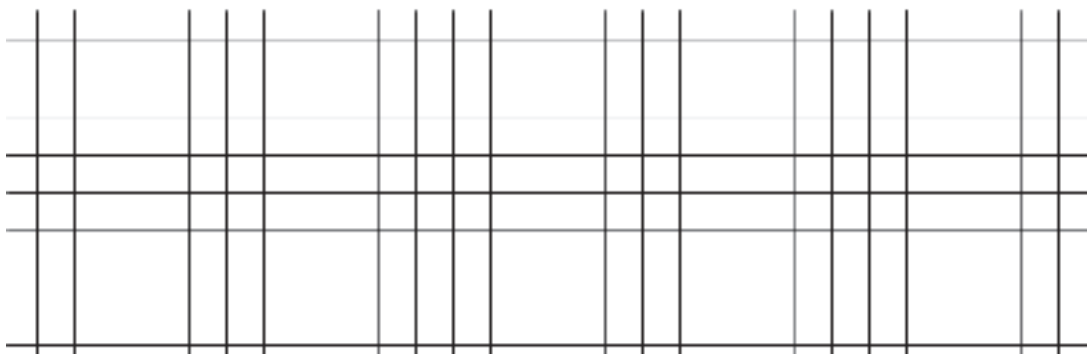


Відповідь. ○○○ _____

! Задачі про птахів.

• Зозуля протягом однієї години знищує 100 гусениць. Скільки гусениць знищить ця пташка за 12 годин?

• Синиця за добу з'їдає стільки комах, скільки важить сама. За місяць (30 днів) вона знищує 600 комах. Яка маса синиці?



Математичні усмішки.

— Скажи, Васильку, скільки мама заплатила за два кілограми яблук, якщо кілограм коштує дві гривні?

— Не знаю. Моя мама завжди дуже довго торгується.

Учителька пояснює арифметичну дію ділення. На дошці написала «2:2».

— Хто знає, що це означає?

У Іванка, який сидить на першій парті, засяяли оченята:

— Нічия!