
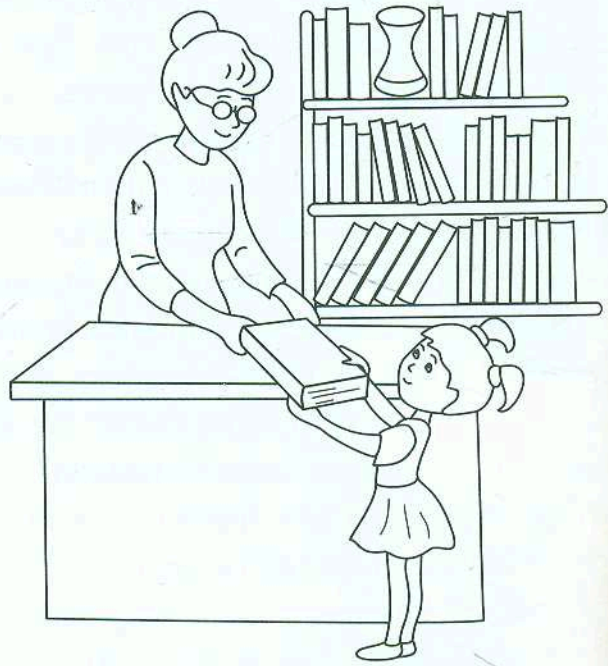


Розглянь малюнки та знайди відмінності. Замалюй стільки кружечків, скільки відмінностей на малюнках.



○ ○ ○ ○ ○ ○ ○



○ ○ ○ ○ ○ ○ ○



Постав у «віконечку» праворуч стільки крапок, скільки дівчаток на малюнку, а у «віконечку» ліворуч — скільки хлопчиків на малюнку.















Равлики влаштували змагання. Замалюй равлика, який рухається першим, коричневим кольором, того, хто рухається четвертим, — зеленим, а равлика, який рухається останнім, обведи лінією. Яке місце в змаганнях посіде кожний равлик? З'єднай равликів з відповідним числом за зразком.
















Продовж писати по клітинках за зразком.





Рухайся зліва направо у верхньому рядку. Визнач, яка за порядком пірамідка, і постав у «віконечку» відповідну кількість крапок. Рухайся справа наліво в нижньому рядку. Визнач, який за порядком ведмедик, і постав у «віконечку» відповідну кількість крапок.

						<input type="text"/>
						<input type="text"/>

Веселинка спілела віночок з волошок, маків і ромашок. Постав у «віконечках» праворуч стільки крапок, скільки квітів використала дівчинка. Наклей наліпки з відповідними числами.

	<input type="text"/>				<input type="text"/>		
	<input type="text"/>						<input type="text"/>
	<input type="text"/>					<input type="text"/>	

Продовж писати по клітинках за зразком.

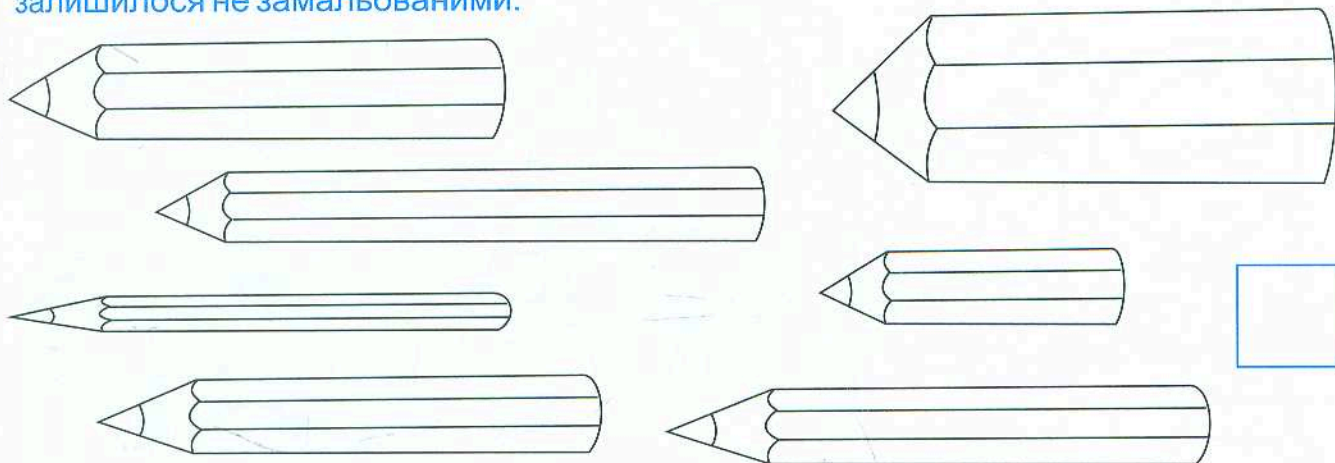
																				



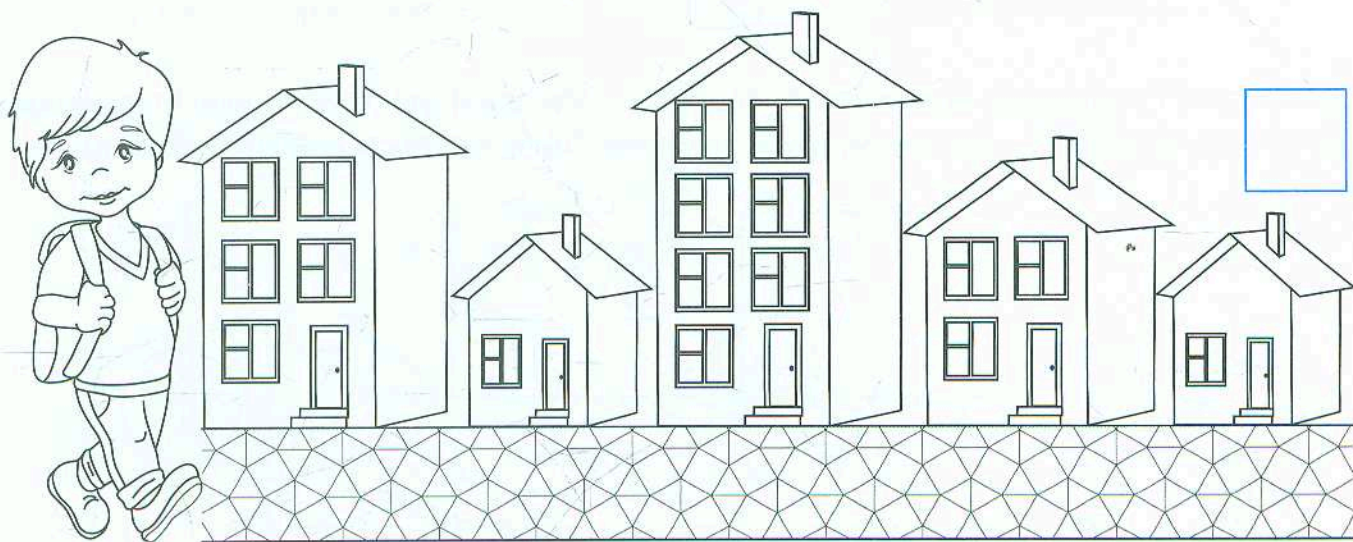
# Величина предметів



Замалюй найтовщий олівець зеленим кольором, найтонший — червоним, а найкоротший — фіолетовим. Постав у «віконечку» стільки крапок, скільки олівців залишилося не замальованими.



Будинок Грайлика четвертий на вулиці. Будинок Веселинки — найвищий на вулиці. Рухайся зліва направо і замалюй дах будинку хлопчика жовтим кольором, а дах будинку дівчинки — рожевим кольором. Визнач, який за порядком будинок Веселинки, і постав у «віконечку» відповідну кількість крапок.



Продовж писати по клітинках за зразком.

