


Обчисли вирази.



 = 12




 = 25




 = 13



 = 14



 +  =

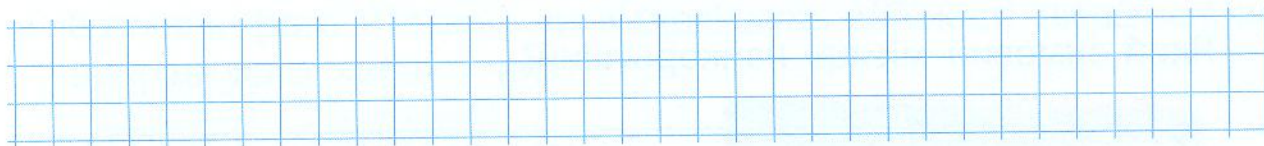
 +  +  =

 +  +  =

 +  =

Запиши числа в порядку збільшення.

22, 44, 15, 31, 60, 11, 53, 88, 29, 12



Зроби сніжинку за зразком.

