



14. Для гри у волейбол 12 дітей розділили порівну на 2 команди. Скільки дітей в одній команді?

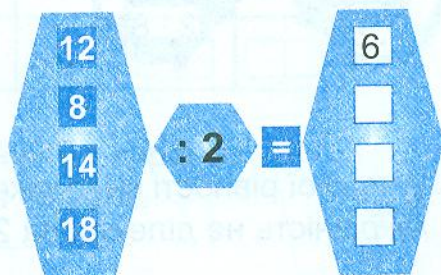
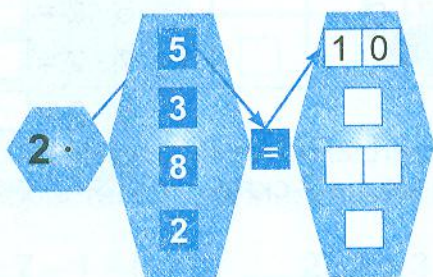
$$\square\square : \square = \square \text{ (д.)}$$

15. Скільки разом вух у 4 зайців?

$$\square \cdot \square = \square \text{ (в.)}$$



16.



17. Знайди і виправ помилки в обчисленнях.

$2 \cdot 6 = 14 \quad \square\square$

$2 \cdot 1 = 1 \quad \square\square$

$2 : 1 = 1 \quad \square\square$

$16 : 2 = 9 \quad \square\square$

$2 \cdot 8 = 18 \quad \square\square$

$2 \cdot 0 = 0 \quad \square\square$

$8 : 2 = 4 \quad \square\square$

$2 \cdot 7 = 14 \quad \square\square$

$2 \cdot 5 = 10 \quad \square\square$

$2 \cdot 3 = 8 \quad \square\square$

$4 : 2 = 2 \quad \square\square$

$16 : 2 = 7 \quad \square\square$

$2 \cdot 2 = 4 \quad \square\square$

$18 : 2 = 8 \quad \square\square$


$12 : 2 = 6 \quad \square\square$

$14 : 2 = 6 \quad \square\square$

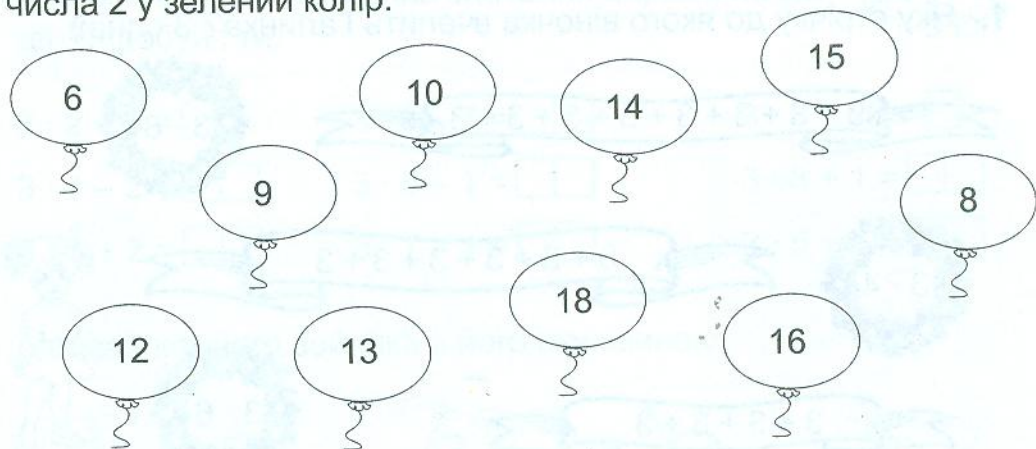
$2 \cdot 9 = 16 \quad \square\square$

$2 \cdot 4 = 6 \quad \square\square$

18. Впиши пропущені результати таблиці множення числа 2.



19. Розмалюй повітряні кульки з результатами таблиці множення числа 2 у зелений колір.

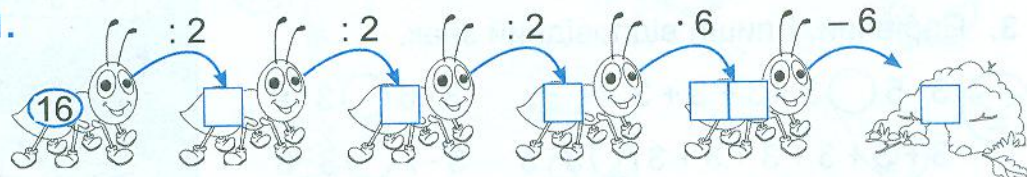


20. Надійка пошила для ляльок 3 плаття. На кожне пришила по 2 ґудзики. Скільки ґудзиків використала Надійка?



(г.)

21.



22. Впиши відповідні числа за зразком.

