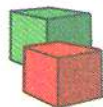


❖ Розглянь малюнки і знайди 5 відмінностей. На якій картинці зірочок багато, на якій — мало?



❖ А тепер скажи, яких іграшок у твоїй кімнаті мало, а яких — багато.

❖ Цифри дуже люблять пусувати. Які з них «стоять на голові», які дивляться в інший бік? Знайди і покажи, які цифри написані правильно.




❖ Даша і Сашко хочуть розділити 2 яблука. По скільки яблук отримає кожен малюк? А якщо вони будуть ділити 4 яблука, 6, 8, 10?



Усі яблучка ми легко поділили на двох. Отже, числа 2, 4, 6, 8 і 10 — парні.

❖ Розглянь циферблат. Яких цифр тут бракує? Назви лише парні числа.




❖ Допоможи Даші та Сашкові поділити цукерку навпіл. Як це зробити? А як поділити порівну 3 цукерки, 5, 7, 9?

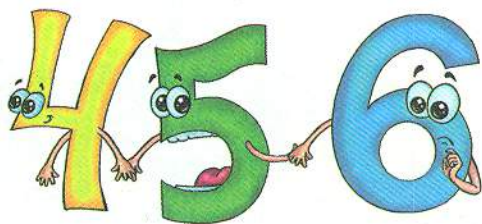


Стільки цукерок вже важче поділити на двох. Потрібен ніжик, щоб одну розрізати. Отже, числа 1, 3, 5, 7, 9 — не-парні.

❖ Два пластмасові ґудзики важать стільки ж, скільки один металевий. На якій чаші ваг пластмасові ґудзики?



◆ У кожного числа є сусіди. Наприклад, 5 тримає за ручки 4 та 6. Назви сусідів кожного з цих чисел.



◆ Назви числа, які «живуть» між цими числами.



◆ Покажи цифру зліва від цифри 5, але не синю і не червону. Яка це цифра? Покажи цифру праворуч від цифри 6, але не 7 і не 9.

