

І.М. Чорненька

# МАТЕМАТИКА

## **1** ПЕРШИЙ ВАРІАНТ

*Схвалено для використання у загальноосвітніх навчальних закладах  
комісією з педагогіки та методики початкового навчання  
Науково-методичної ради з питань освіти  
Міністерства освіти і науки України  
(лист ПТЗО від 04.06.2015 р. № 14.1/12-Г-395)*

## ЗОШИТ

для контрольних робіт

---

---

уч \_\_\_\_\_ 4 \_\_\_\_\_ класу

---

---

*Дата*

1. Обчислити письмово.

$$348 + 285$$

$$105 \cdot 6$$

$$816 : 4$$

$$632 - 194$$

$$218 \cdot 3$$

$$581 : 7$$

2. Знайти значення виразів.


$$190 + 360 : 6$$

$$70 \cdot 3 - 50$$

3. Розв'язати задачу.

У покупця було 350 гривень. Він купив 4 м тканини, по 28 грн. за метр. Скільки гривень залишилося у покупця?


4. Накреслити відрізок  $AB$ , довжина якого становить  $\frac{1}{6}$  від 4 дм 2 см.



**Бали (рівень  
навчальних досягнень)**

\_\_\_\_\_

Додаткові завдання



**Аналіз контрольної роботи**

A large grid of graph paper, consisting of 20 columns and 30 rows of small squares, intended for writing the analysis of the control work.

*Дата*

1. а) Записати цифрами числа : вісімдесят дві тисячі триста сорок п'ять; шість тисяч вісімдесят; дванадцять тисяч чотириста.  
б) Записати "сусідів" числа 4341.  
в) Розкласти на розрядні доданки число 75 308.  
г) Записати суму як одне число :  $40\ 000 + 1000 + 60 + 2$ .  
г) Записати, скільки всього десятків у числі 24 705.

2. Обчислити письмово.

$218 \cdot 4$

$968 : 8$

$4 \text{ дм} : 8$

$305 \cdot 9$

$882 : 2$


$2 \text{ ц} - 20 \text{ кг}$

3. Виконати дії.

$652 : 2 - 139$

4. Розв'язати задачу.

У трьох будинках 140 квартир. У першому будинку 32 квартири, в другому — на 16 квартир більше, ніж у першому, а в третьому — решта. Скільки квартир у третьому будинку?



\_\_\_\_\_

**Додаткові завдання**

A large grid of graph paper, consisting of 20 columns and 25 rows of small squares, intended for writing answers to the additional tasks.



---

**Аналіз контрольної роботи**

A large grid of graph paper, consisting of 20 columns and 30 rows of small squares, intended for writing the analysis of the control work.