

Василь Тесля

Серія «Хочу вчитися краще»

ФУТБОЛЬНА МАТЕМАТИКА


Книга-гра

4 клас


Варіант 1



ТЕРНОПІЛЬ
НАВЧАЛЬНА КНИГА — БОГДАН



У 6 однакових пакетах 12 л гранатового соку. Скільки літрів гранатового соку у 9 таких пакетах?



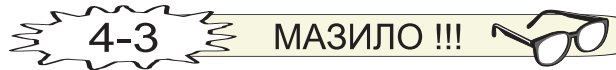
Протягом двох тижнів автомобіль проїхав 7200 км, причому першого тижня він був у дорозі 40 годин, а другого тижня — 80 годин. Скільки кілометрів автомобіль подолав кожного тижня окремо, якщо його швидкість весь час була однаковою?



«ПЛЮС»

РЕЗУЛЬТАТ

«МІНУС»





Мотузку завдовжки 270 м розрізали на 5 однакових кусків. Яка довжина кожного куска?



«ПЛЮС»

РЕЗУЛЬТАТ

«МІНУС»



ГОЛ !!!



МАЗИЛО !!!



Картина коштує 4860 гривень, а рама — $\frac{3}{10}$ від вартості картини. Скільки гривень коштує картина разом із рамою?





Два автомобілі, відстань між якими була 250 км, одночасно вирушили назустріч один одному. Швидкість одного автомобіля 90 км/год, а другого — 100 км/год. Яка відстань буде між автомобілями через 2 години? Чи будуть вони, як і раніше рухатися назустріч один одному?

130 км; ні 14-4

130 км; так 13-3



«ПЛЮС»

РЕЗУЛЬТАТ

«МІНУС»



19-3

ГОЛ !!!



19-4

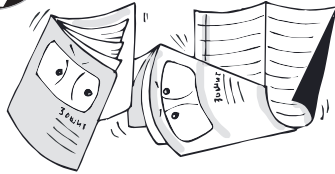
МАЗИЛО !!!



Довжина сторони рівностороннього трикутника 12 см. Знайди площу квадрата, периметр якого дорівнює периметру цього трикутника.

64 см² 15-4

81 см² 12-3




Для виготовлення 12 однакових зошитів витратили 144 аркуші паперу. Скільки аркушів паперу потрібно для виготовлення 5 таких зошитів?

72 аркуші $24-4$

60 аркушів $25-4$



«ПЛЮС»



З одного пункту вийшов пішоход, а через 3 години вслід йому виїхав велосипедист. Швидкість пішохода 4 км/год, а швидкість велосипедиста 16 км/год. Через скільки годин велосипедист наздожене пішохода?

1 год $27-3$

4 год $26-3$



«МІНУС»

РЕЗУЛЬТАТ

31-4

ГОЛ !!!



31-3

МАЗИЛО !!!



Серію «Хочу вчитися краще» започатковано 2009 року

Тесля В.В.

ФУТБОЛЬНА МАТЕМАТИКА

Книга-гра

4 клас

Варіант 1

Головний редактор *Богдан Будний*

Редактори *Ірина Чорненька, Наталя Шост*

Обкладинка *Володимира Басалиги*

Комп'ютерна верстка *Юрія Шведа*

Підписано до друку 08.08.2010. Формат 60x84/16. Папір офсетний.

Гарнітура Таймс. Умовн. друк. арк. 1,86. Умовн. фарбо-відб. 1,86.

Видавництво “Навчальна книга – Богдан”

Свідоцтво про внесення до Державного реєстру видавців ДК №370 від 21.03.2001 р.

Навчальна книга – Богдан, а/с 529, м. Тернопіль, 46008

тел./факс (0352) 52-06-07; 52-05-48; 52-19-66

publishing@budny.te.ua, office@bohdan-books.com www.bohdan-books.com

Тесля В.В.

Т36 Футбольна математика. Книга-гра. 4 клас. Варіант 1. – Тернопіль: Навчальна книга – Богдан, 2010. – 32 с.

ISBN 978-966-10-0849-5 (серія)

ISBN 978-966-10-1416-8

ББК 74.100.58