

Тема 1. Поява людського життя на території України. Ранній залізний вік. Найдавніші землероби та скотарі

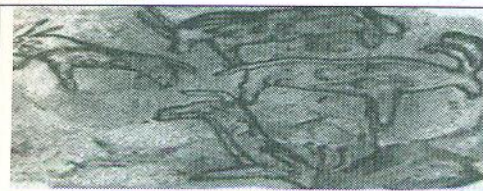
Тестові завдання з вибором однієї правильної відповіді

1. Укажіть, якій добі археологічної періодизації давньої історії України відповідає зображення на малюнку-реконструкції.



- А палеоліт
- Б мезоліт
- В неоліт
- Г залізний вік

2. Укажіть, до якої доби за археологічною періодизацією належить зображення з Кам'яної Могили.



- А палеоліт
- Б мезоліт
- В неоліт
- Г енеоліт

3. Для чого первісні люди малували зображення тварин у печерах?



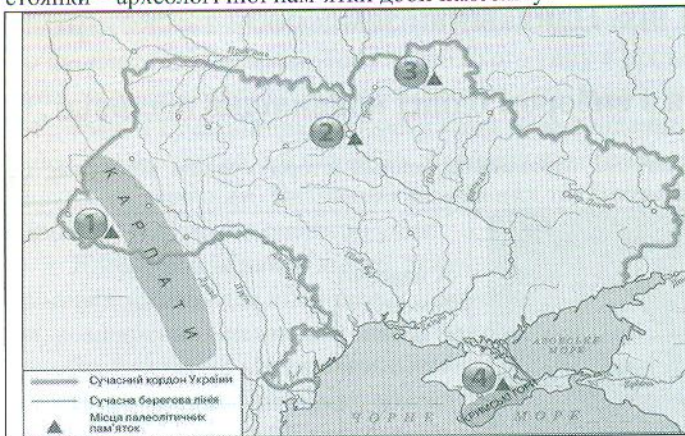
- А у них було багато вільного часу
- Б вони поклонялися їм
- В для первісних людей характерне творче мислення
- Г так вони навчали своїх дітей полювати

4. Укажіть, якій добі за археологічною періодизацією відповідають позначені на карті стоянки первісних людей на території України.



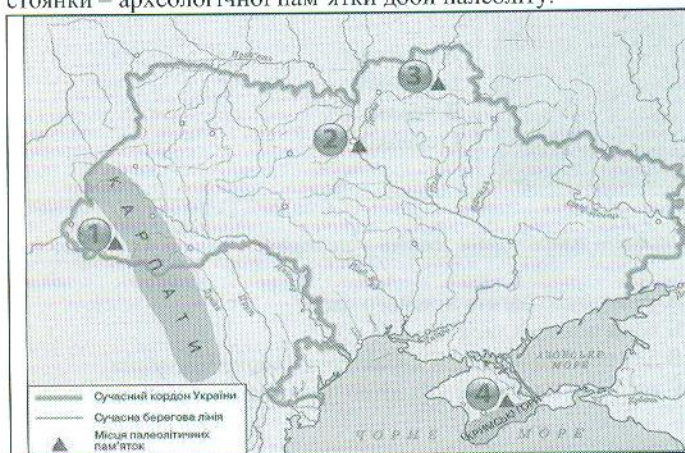
- А ранній палеоліт
- Б енеоліт
- В пізній палеоліт
- Г неоліт

5. Укажіть, якою цифрою на картосхемі позначено місце розташування Мізинської стоянки – археологічної пам'ятки доби палеоліту.



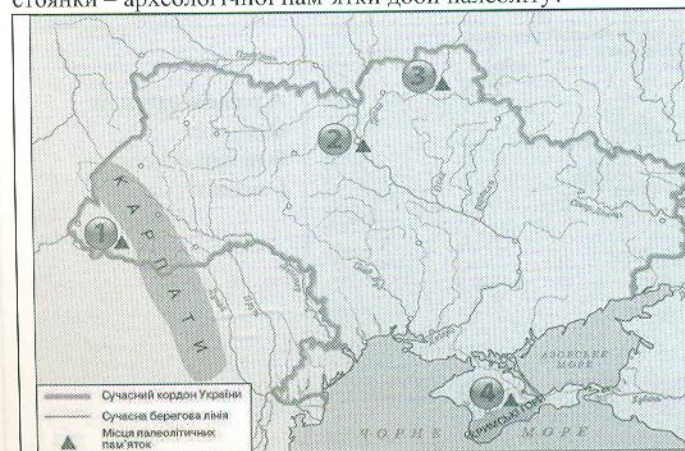
- А 1
- Б 2
- В 3
- Г 4

6. Укажіть, якою цифрою на картосхемі позначено місце розташування Кирилівської стоянки – археологічної пам'ятки доби палеоліту.



- А 1
- Б 2
- В 3
- Г 4

7. Укажіть, якою цифрою на картосхемі позначено місце розташування Королевської стоянки – археологічної пам'ятки доби палеоліту?



- А 1
- Б 2
- В 3
- Г 4