









2



2



Скільки пасеться корівок? Наведи **2** за пунктирними лініями в напрямку стрілок. Розфарбуй відповідну кількість грибочків.



Скільки бігає зайчиків? Наведи **3** за пунктирними лініями в напрямку стрілок. Розфарбуй відповідну кількість полуниць.