

# 6x

$6 \times 1 = 6$

$6 \times 2 = 12$

$6 \times 3 = 18$

$6 \times 4 = 24$

$6 \times 5 = 30$

$6 \times 6 = 36$

$6 \times 7 = 42$

$6 \times 8 = 48$

$6 \times 9 = 54$

$6 \times 10 = 60$

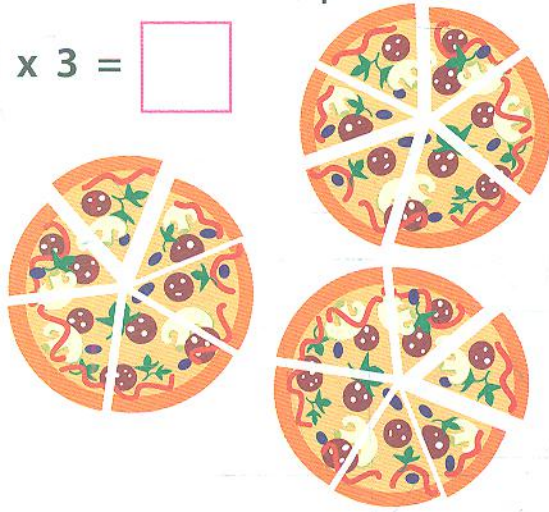
А ти помітив?  
Останні цифри  
у числах-відповідях  
повторюються:

6, 2, 8, 4, 0,

6, 2, 8, 4, 0.

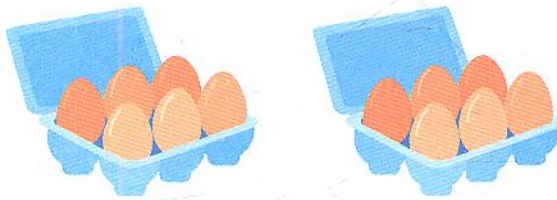

Скільки шматків піци?

$6 \times 3 = \square$



Скільки виноградинок?

$6 \times \square = \square$




Скільки яєць?

$6 \times \square = \square$

У кожному акваріумі розфарбуй рибку із правильною відповіддю.



6 x 1



6 x 6






6 x 10



6 x 8



З'єднай кожен автобус зі школою, до якої він прямує. Приклади з однаковими відповідями підкажуть тобі напрямок.



Збільш ушестеро кожне число за зразком.

