



Що із цього можна купити за гроші? Приклей поруч гаманці.




машинка



листя




сумка



пісочний замок



любов



кекс



Полічи, скільки гривень збере жабка, побувавши на кожному листочку.



$$\square + \square + \square + \square + \square + \square + \square = \square$$