

Розділ І. РОЗВИТОК ГЕОГРАФІЧНИХ ЗНАЇЙ ПРО ЗЕМЛЮ

ВАРІАНТ 1

1. Укажіть прізвище мандрівника, який здійснив тривалу подорож до Китаю в XIII ст.:

- А Марко Поло В Мартін Бехайм
 Б Ібн Батута Г Клавдій Птолемей

А	Б	В	Г

2. Зазначте, у якому столітті був відкритий Маріанський жолоб і вперше виміряна його глибина:

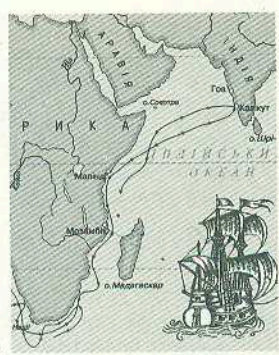
- А XVII В XIX
 Б XVIII Г XX

А	Б	В	Г

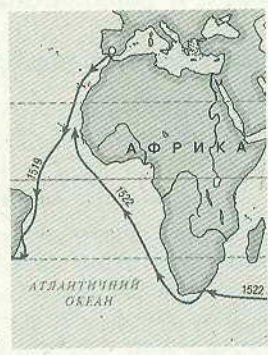
3. Визначте відповідність між мандрівниками та маршрутами їхніх подорожей, використавши фрагменти карт:

- Фернан Магеллан
- Васко да Гама
- Джеймс Кук
- Абель Тасман

	А	Б	В	Г
1				
2				
3				
4				



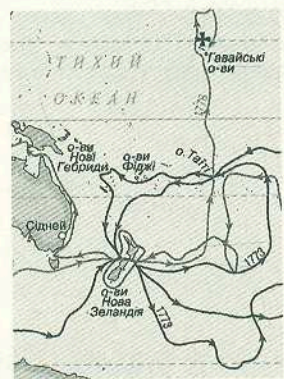
А



Б



В



Г



Д

4. Оберіть регіони світу, яких немає на карті світу Птолемея:

- 1 Америка
- 2 Африка
- 3 Антарктида
- 4 Азія
- 5 Австралія
- 6 Європа
- 7 Скіфія

--	--	--

5. Зазначте країни, звідки родом мандрівники, які першими підкорили полюси Землі на початку XX ст.:

- 1 Росія
- 2 Англія
- 3 США
- 4 Іспанія
- 5 Норвегія
- 6 Австралія
- 7 Португалія

--	--	--

ВАРІАНТ 2

1. Зазначте, хто з античних мислителів винайшов гномон:

- А Ератосфен
- Б Геродот
- В Птолемей
- Г Анаксимандр

А	Б	В	Г

2. Зазначте мореплавця, який відкрив для європейців найбільший льодяний острів світу, назвавши його «зеленим»:

- А Фернан Магеллан
- Б Христофор Колумб
- В Ерік Рудий
- Г Роберт Пірі

А	Б	В	Г

3. Визначте відповідність між мореплавцями й результатами їхніх географічних подорожей:

- 1 Васко да Гама
- 2 Христофор Колумб
- 3 Фадей Беллінсгаузен
- 4 Іван Крузенштерн

А	Б	В	Г	Д
1				
2				
3				
4				

- А склав «Атлас Південного моря» за наслідками навколосвітньої подорожі
- Б відкрив низку островів у Тихому океані, детально дослідив східні береги Австралії
- В проклав шлях до Індії
- Г відкрив Америку
- Д відкрив Антарктиду

4. Зазначте давньогрецьких учених, які неодноразово відвідували українські землі й залишили відомості про природу й населення країни:

- 1 Арістотель
- 5 Платон
- 2 Страбон
- 6 Бехайм
- 3 Гіппократ
- 7 Птолемей
- 4 Ератосфен

--	--	--

5. Оберіть країни, мореплавці яких здійснювали навколосвітні експедиції у XVIII та XIX ст.:

- 1 Іспанія
- 5 Голландія
- 2 Португалія
- 6 Англія
- 3 Росія
- 7 Китай
- 4 США

--	--	--

ВАРІАНТ 3

1. Зазначте, як тривалий час називали землі, які відкрив Христофор Колумб:

- | | |
|---------------|--------------|
| А Індія | В Новий Світ |
| Б Старий Світ | Г Малий Світ |

А	Б	В	Г

2. Оберіть прізвище дослідника, під керівництвом якого була організована робота першої наукової полярної станції на крижині:

- | | |
|----------------|------------------|
| А Отто Шмідт | В Руаль Амундсен |
| Б Роберт Скотт | Г Іван Папанін |

А	Б	В	Г

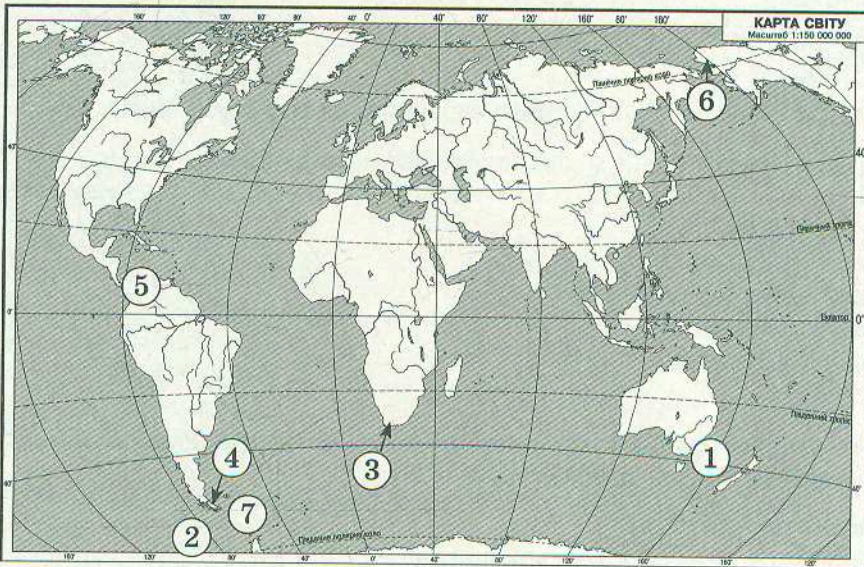
3. Знайдіть відповідність між дослідниками й результатами їхніх досліджень:

- | | |
|------------------|---------------|
| 1 Руаль Амундсен | 3 Роберт Пірі |
| 2 Роберт Скотт | 4 Отто Шмідт |

- А підкорив Південний полюс другим
- Б дістався першим Північного полюса
- В вивчав ґрунти України
- Г здійснив плавання Північним Льодовитим океаном в одну навігацію
- Д дістався першим Південного полюса

	А	Б	В	Г	Д
1					
2					
3					
4					

4. Оберіть на карті географічні об'єкти, назви яких пов'язані з іменами мореплавців епохи Великих географічних відкриттів:



--	--	--

5. Зазначте прізвища вчених, які в різні часи досліджували територію України:

- | | |
|--------------------|---------------------|
| 1 Василь Докучаєв | 5 Степан Рудницький |
| 2 Іван Крузенштерн | 6 Павло Тутковський |
| 3 Михайло Лазарев | 7 Роберт Скотт |
| 4 Роберт Пірі | |

--	--	--