





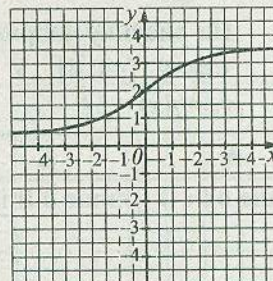
5. На відрізку  $AB$  завдовжки 20 см позначено точки  $C$  та  $D$  такі, що  $AC = 15$  см,  $BD = 17$  см. Знайдіть довжину відрізка  $CD$ .




А	Б	В	Г	Д
10,5 см	12,5 см	14 см	18 см	12 см



6. На рисунку зображено ескіз графіка функції  $y = f(x)$ . На якому з рисунків зображено ескіз графіка функції  $y = f(-x)$ ?




А	Б	В	Г	Д



7. Майстер виготовляє одну деталь за 5 хв, а його учень таку ж деталь — за 9 хв. Працюючи разом, вони виготовили 42 деталі. Скільки деталей виготовив майстер?

А	Б	В	Г	Д
28	32	30	27	25



8. Знайдіть периметр рівнобедреного трикутника зі сторонами 3 см і 7 см.

А	Б	В	Г	Д
20 см	10 см	13 см	17 см	17 см або 13 см

