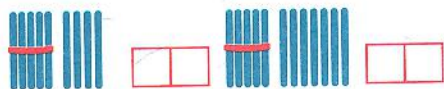
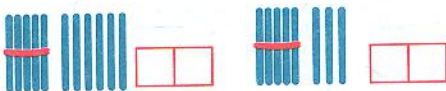


Які числа показані за допомогою паличок? Запиши їх. Визнач, скільки десятків і одиниць у кожному числі.



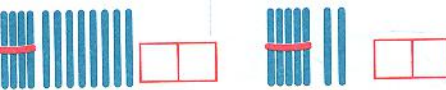
Одинадцять → дес. од.



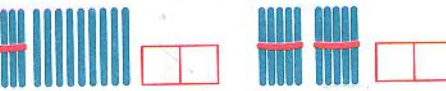
Тринадцять → дес. од.



Вісімнадцять → дес. од.



П'ятнадцять → дес. од.



Двадцять → дес. од.

Дев'ятнадцять → дес. од.

Чотирнадцять → дес. од.

Шістнадцять → дес. од.

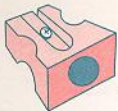
Дванадцять → дес. од.

Сімнадцять → дес. од.

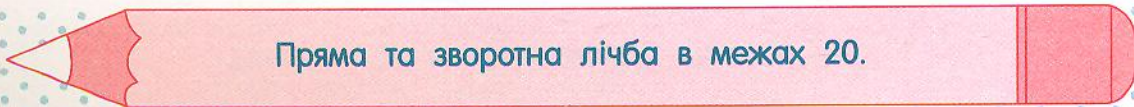




Утворення чисел другого десятка та їх назви.





На першому малюнку з'єднай числа в порядку збільшення, а на другому — у порядку зменшення. Розфарбуй малюнки.



Пряма та зворотна лічба в межах 20.