





1. Обведи об'єкти, які належать до однієї групи. Скільки їх у кожній групі?

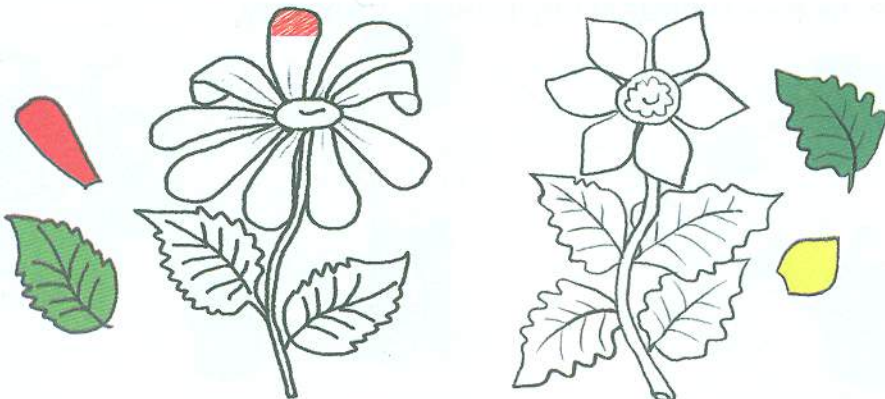


2. Напиши за зразком.




3. Розфарбуй квітки відповідним кольором. Дай відповіді на запитання.


Скільки пелюсток у кожній квітці? Скільки листків на кожному стеблі?



1. Обведи об'єкти, що належать до однієї групи. Для чого призначені ці предмети? Скільки їх у кожній групі?



2. Напиши за зразком.



3. Скільки ліній на малюнку? Наведи всі прямі олівцем синього кольору, криві — олівцем зеленого кольору, ламані — олівцем червоного кольору.

