

Нові друзі. Час




1. Із чого складається година? Скільки хвилин між двома числами на циферблаті? А скільки годин між числами на циферблаті?

Іванко



Коротка стрілка
показує години



Циферблат

Віра

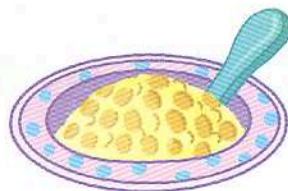

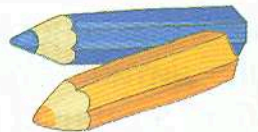

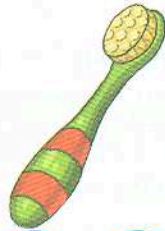


Довга стрілка
показує хвилини

Циферблат розділений на 12 частин. Довга стрілка рухається швидше, ніж коротка, і встигає пройти повне коло за 1 годину.



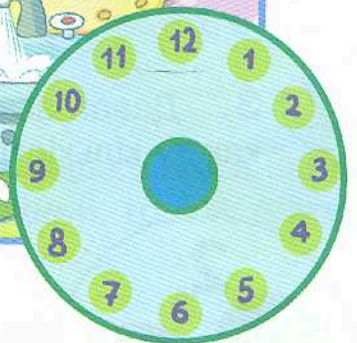
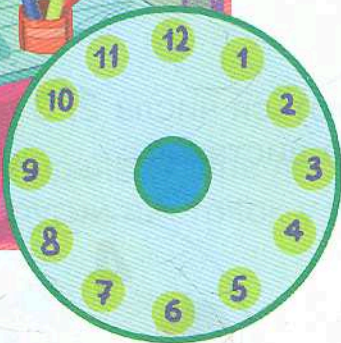


2. Які предмети потрібні дітям у різний час доби? Розфарбуй кружечки біля них у жовтий колір — якщо вранці, у червоний — якщо вдень, у синій — якщо ввечері, у фіолетовий — якщо вночі.




Нові друзі. Час



1. О котрій годині Іванко виконує ці дії? Намалюй стрілки на годиннику.



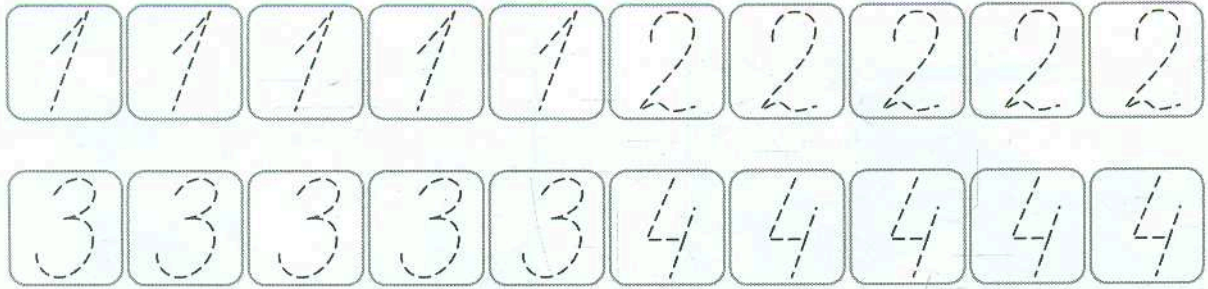
2. Пришов час вирушати у подорож на веселому потязі. Порахуй вагончики по порядку. Які цифри забули написати? Допиши їх.





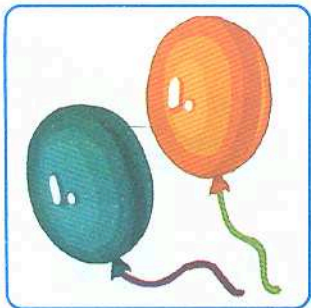
У гості до лісу. Числа 1, 2, 3 і 4



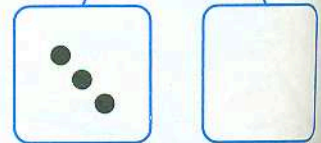
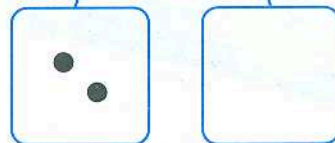
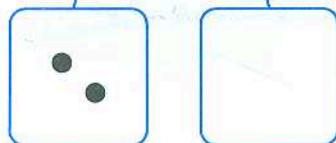

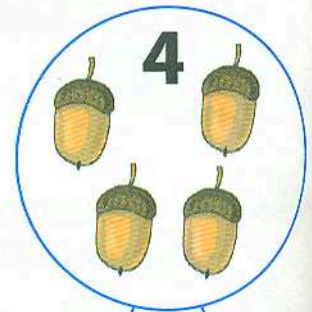
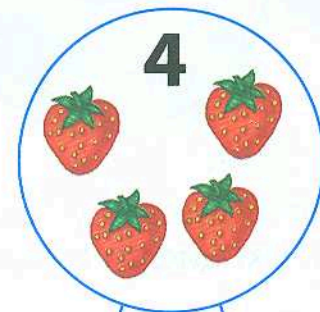
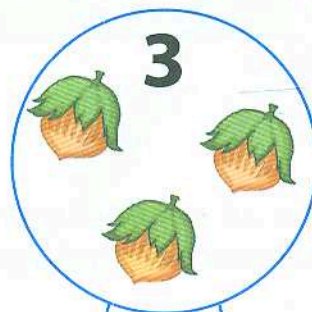

1. Обведи цифри 1, 2, 3 і 4.



2. Порахуй, скільки предметів на малюнку. Розфарбуй клітинку з потрібною цифрою.





3. Давай згадаємо, як утворюються числа 2, 3 і 4. Домалюй у квадратах ту кількість крапочок, якої не вистачає.



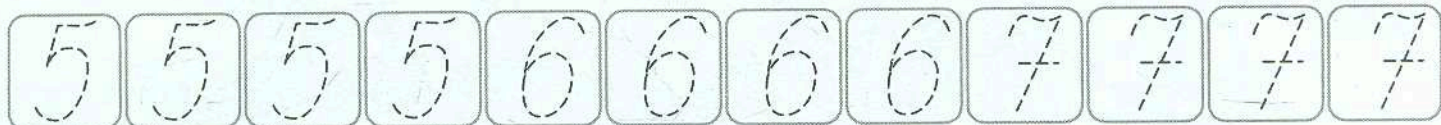
У гості до лісу. Числа 5, 6, 7



1. Допоможи скласти числа в зелених листочках. Домалюй крапки в порожніх фігурках на спинках у лісових друзів.



2. Обведи цифри 5, 6 і 7.



3. Віра й Іванко зібрали осінні листя. Поглянь, яка гірлянда в них вийшла! Зафарбуй кожен другий листочок у жовтий колір, а перший, третій, п'ятий, сьомий — у зелений.

