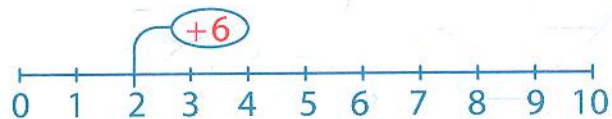
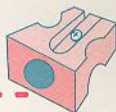
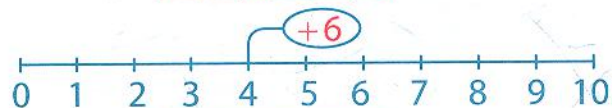


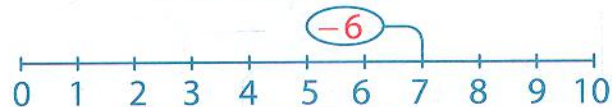
За допомогою числових відрізків і малюнків склади вирази.
Обчисли їх.



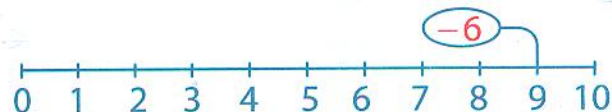
--	--	--	--	--	--	--	--



--	--	--	--	--	--	--	--



--	--	--	--	--	--	--	--



--	--	--	--	--	--	--	--

$$\begin{array}{c} \triangle \triangle \triangle \\ \triangle \triangle \triangle \end{array} + \star =$$

--	--	--	--	--	--

$$\begin{array}{c} \circ \circ \circ \\ \circ \circ \circ \end{array} + \begin{array}{c} \nabla \nabla \nabla \end{array} =$$

--	--	--	--	--	--

$$\begin{array}{c} \circ \circ \star \star \\ \star \star \star \star \end{array} - \begin{array}{c} \star \star \star \\ \star \star \star \end{array} =$$

--	--	--	--	--	--

$$\begin{array}{c} \square \square \square \square \\ \triangle \triangle \triangle \triangle \triangle \end{array} - \begin{array}{c} \triangle \triangle \triangle \\ \triangle \triangle \triangle \end{array} =$$

--	--	--	--	--	--

Обчислення виразів на додавання та віднімання
числа 6.





Обчисли вирази, застосовуючи таблиці додавання та віднімання числа 6.



1 — зелений; 2 — синій; 3 — жовтий; 8 — рожевий; 9 — блакитний;
4 — червоний; 7 — жовтогарячий; 10 — фіолетовий.



Засвоєння таблиць додавання та віднімання числа 6.