




22,50 грн



?

Скільки коштують 3 чашки?


Обведи правильну відповідь:

3,50

6,50

7,50

Ціна продукції



126 грн



?

Скільки коштують усі м'ячики з нижнього малюнка?


Обведи правильну відповідь:

42

56

63





18 грн




Скільки коштують 3 лампочки?



Обведи правильну відповідь:

- 1,50
- 4,50
- 6

Ціна продукції



64,80 грн



Скільки коштують 3 лампочки?



Обведи правильну відповідь:

- 5,40
- 6,40
- 10,80