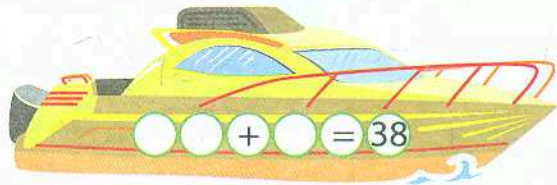
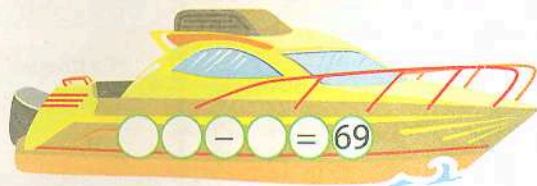
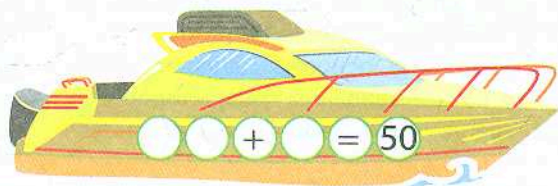
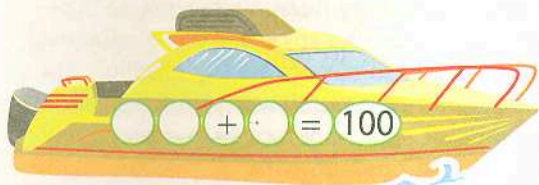
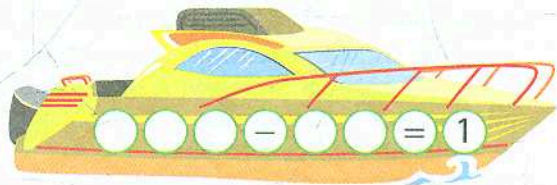
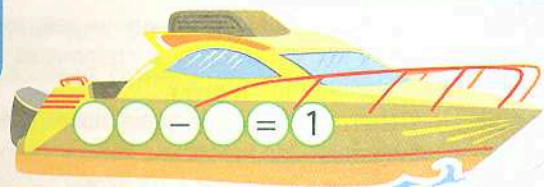









Які цифри мають бути записані в ілюмінаторах?



Найменше двоцифрове число підкаже номер наступної сторінки.



Допоможи плавцям приплисти до фінішу, вставивши пропущені знаки.

1		$5 \cdot 8 \square 4$	36
2		$(66 \square 36) : 5$	6
3		$27 : 3 \square 2$	18
4		$99 \square 19 + 20$	100
5		$63 \square 7 \square 3 : 1$	3
6		$7 \square 5 + 25$	60
7		$81 : 9 \square 4 \square 4$	40

Яка відповідь на сьомій доріжці? Переходь на сторінку з цим номером.



З'єднай крапки та дізнаєшся, чим грається дівчинка. Запиши назви отриманих трикутників латинськими літерами за зразком.



Скільки всього трикутників утворилось? Це номер наступної сторінки.



Прямокутники з неправильними відповідями зафарбуй у червоний колір, із правильними — у зелений.



$a$	$a \cdot 8$
7	56
4	40
9	72

$a$	$a + 7$
70	77
30	100
40	47



$a$	$12 : a$
6	6
4	3
3	9



$a$	$a - 3$
43	13
73	70
23	20



Число 50 зменши на 8 і дізнаєшся, куди тобі вирушати далі.

