

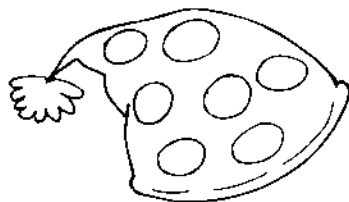






Неуважний Антончик забув, яка з шапок його.
Пам'ятає тільки, що:

- ♦ на його шапці немає ні зірок, ні смужок;
- ♦ вчора під час екскурсії загубив помпон.

Знайди шапку Антончика та обведи її.




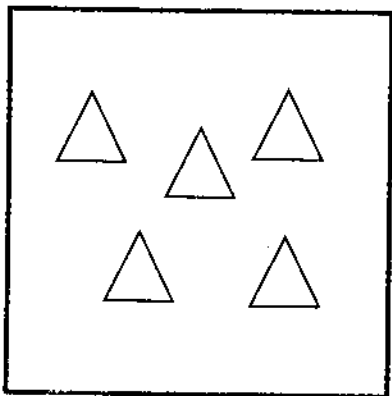
І
Р
І
В
Е
Н
Ь



Завдання 2

Намалюй на 1 елемент більше, ніж у сусідній рамці. Напиши, скільки елементів у кожній рамці.

1
р
і
в
е
н
ь




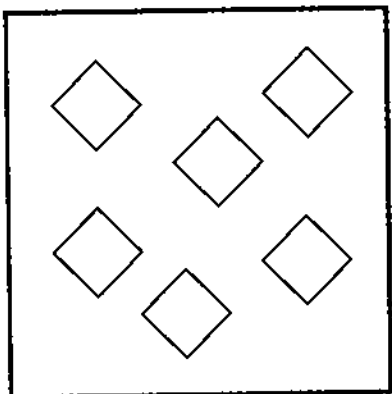


Завдання 3



Намалюй на 1 елемент менше, ніж у сусідній рамці. Напиши, скільки елементів у кожній рамці.

1
2
3
4
5
6
7



Завдання 4

Намалюй на 2 елементи більше, ніж у сусідній рамці. Напиши, скільки елементів у кожній рамці.

П
Р
І
В
Н
Ь

