



Полічи кораблики. Третій кораблик розмалюй синім кольором, п'ятий — зеленим, а другий — червоним.

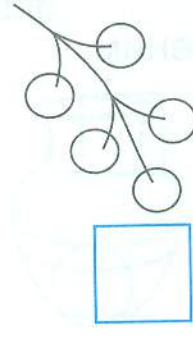
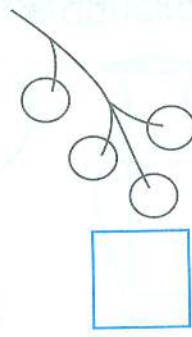
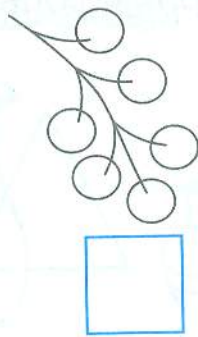
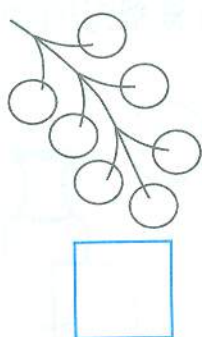



«Поклади» великі кубики у великий кошик, а малі — у малий кошик. Проведи лінії від кубиків до кошиків.



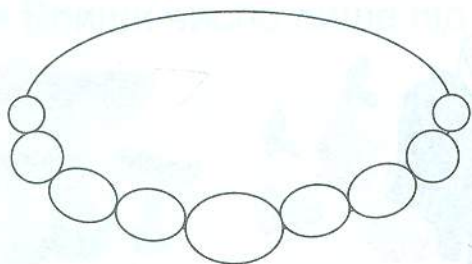
Скільки всього кубиків? Постав стільки крапок у «віконечко».

Постав у «віконечка» стільки крапок, скільки ягідок є на гілочках.






Скільки в намисті найменших намистинок? Скільки найбільших? Скільки всього?



- Найменші намистинки розмалюй синім кольором, найбільшу — червоним.

Остап найвищий, а Андрій — третій за зростом. Розмалюй одяг Андрія.



З'єднай стрілками кружечки послідовно від найбільшого до найменшого.



Домалюй шарфи так, щоб другий шарф був довший, ніж перший, а третій — такої самої довжини, як другий.

