

Н.О. Будна

МАТЕМАТИКА

1 ПЕРШИЙ ВАРІАНТ

ЗОШИТ

для контрольних робіт

уч _____ 3 _____ класу



ТЕРНОПІЛЬ
НАВЧАЛЬНА КНИГА – БОГДАН

Дата

1. Обчислити.

$54 : 6 + 9 \cdot 5$

$(63 - 9) : 6$

$30 - 24 : 6 : 2$

$5 + 50 - 45 : 5$

$35 + 42 : 6$

$100 - 35 : 7$

2. Розв'язати рівняння.

$x \cdot 6 = 12$


$12 - x = 24 : 8$

$x - 46 = 18$

3. Розв'язати задачу.

За 4 дні майстер відремонтував 32 годинники. За скільки днів він відремонтує 48 годинників?

4. Котру годину показує кожний годинник? Котру годину показуватимуть годинники через 10 хв?



A large grid of graph paper, consisting of 20 columns and 30 rows of small squares, intended for calculations or drawing.

Бали (рівень навчальних досягнень)

Дата

1. Обчислити.

$72 : 18$

$620 : 2$

$145 \cdot 4$

$23 \cdot 3 + 44 : 22$

$81 : 27$

$6 \cdot 120$

$108 \cdot 8$

$6 \cdot 16 - 64 : 16$

2. Вставити пропущені числа.

$4 \text{ м } 12 \text{ см} = \square \square \square \text{ см}$

$2 \text{ доби } 3 \text{ год} = \square \square \text{ год}$

$1 \text{ год } 10 \text{ хв} = \square \square \text{ хв}$

$84 \text{ см} = \square \text{ дм } \square \text{ см}$

3. Розв'язати рівняння.


$42 : 7 - x = 1$

$64 : x - 12 = 4$

4. Розв'язати задачу.

У Андрія було 5 грн 75 к. Він купив 4 ручки, по 80 к., і 3 однакові зошити. Скільки коштував один зошит?

5. Знайти периметр прямокутника, якщо його ширина 4 см, а довжина у 2 рази більша, ніж ширина.



Зошит відповідає навчальній програмі з математики та підручнику «Математика. 3 клас» (авт. М.В. Богданович, Г.П. Лищенко). У ньому подано 8 контрольних робіт, по 2 варіанти у кожній.

В зошиті відведено вільні сторінки для додаткових завдань та аналізу контрольних робіт.

Кожен варіант є окремим блоком сторінок. Посібник можна розшити й отримати два зошити.

Теми контрольних робіт:

- №1-2. Ознайомлення з рівняннями. Повторення матеріалу за 2 клас.
- №3. Тисяча. Нумерація трицифрових чисел. Усне додавання і віднімання в межах 1000.
- №4. Письмове додавання і віднімання чисел.
- №5. Множення і ділення в межах 1000. Усне множення і ділення; множення і ділення розрядних чисел на одноцифрові.
- №6. Ділення суми на число. Ділення виду $39 : 3$; $72 : 6$. Перевірка ділення і множення. Ділення виду $64 : 16$, $125 : 5$.
- №7. Частини. Ділення з остачею.
- №8. Повторення вивченого за рік.

Навчальне видання

БУДНА Наталя Олександрівна

МАТЕМАТИКА

Зошит для контрольних робіт

3 клас

Перший варіант

Головний редактор *Богдан Будний*

Редактор *Любов Левчук*

Обкладинка *Аліни Воронкової*

Комп'ютерна верстка *Тетяни Золоєдової*

Технічний редактор *Оксана Чучук*

Підписано до друку 30.01.2014. Формат 70x84/16. Папір офсетний. Гарнітура Таймс.
Умовн. друк. арк. 1,63. Умовн. фарбо-відб. 1,63.

Видавництво «Навчальна книга – Богдан»

Свідоцтво про внесення суб'єкта видавничої справи до Державного реєстру видавців, виготівників і розповсюджувачів видавничої продукції

ДК № 4221 від 07.12.2011 р.

Навчальна книга – Богдан, просп. С. Бандери, 34а, м. Тернопіль, 46002

Навчальна книга – Богдан, а/с 529, м. Тернопіль, 46008

тел./факс (0352)52-06-07; 52-19-66; 52-05-48

office@bohdan-books.com

www.bohdan-books.com

ISBN 978-966-10-3795-2



9 | 789661 | 037952 |

Н.О. Будна

МАТЕМАТИКА

2 ДРУГИЙ ВАРІАНТ

ЗОШИТ

для контрольних робіт

уч _____ 3 _____ класу



ТЕРНОПІЛЬ
НАВЧАЛЬНА КНИГА – БОГДАН

Дата

1. Обчислити.

$$45 : 5 + 4 \cdot 9$$

$$(45 - 39) \cdot 9$$

$$70 - 6 \cdot 8 + 18$$

$$75 - (27 : 9) - 19$$

$$15 + 35 + 6 \cdot 7$$

$$(60 - 32) : 4$$

2. Розв'язати рівняння.

$$16 + x = 40$$


$$x - 7 = 53$$

$$x : 9 = 4$$

3. Розв'язати задачу.

Із 28 м тканини пошили 4 однакові підковдри. Скільки метрів тканини потрібно, щоб пошити 6 таких підковдр?

4. Котру годину показує кожен годинник? Котру годину показуватимуть годинники через 20 хв?



Дата

1. Обчислити.

$64 : 16$

$480 : 4$

$163 \cdot 4$

$27 \cdot 3 + 48 : 24$

$96 : 24$

$3 \cdot 160$

$103 \cdot 9$

$5 \cdot 8 - 36 : 12$

2. Вставити пропущені числа.

$3 \text{ м } 15 \text{ см} = \square \square \square \text{ см}$

$2 \text{ доби } 7 \text{ год} = \square \square \text{ год}$

$1 \text{ год } 20 \text{ хв} = \square \square \text{ хв}$

$41 \text{ см} = \square \text{ дм } \square \text{ см}$

3. Розв'язати рівняння.

$120 - 20 \cdot x = 40$

$x \cdot 9 + 24 = 60$

4. Розв'язати задачу.

598 кг цукру розсипали у 8 мішків, по 50 кг у кожний, і в кульки, по 3 кг в кожний. Скільки кульків для цього використали?

5. Знайти периметр прямокутника, якщо його довжина 12 см, а ширина у 3 рази менша, ніж довжина.



Зошит відповідає навчальній програмі з математики та підручнику «Математика. 3 клас» (авт. М.В. Богданович, Г.П. Лищенко). У ньому подано 8 контрольних робіт, по 2 варіанти у кожній.

В зошиті відведено вільні сторінки для додаткових завдань та аналізу контрольних робіт.

Кожен варіант є окремим блоком сторінок. Посібник можна розшити й отримати два зошити.

Теми контрольних робіт:

- №1-2.** Ознайомлення з рівняннями. Повторення матеріалу за 2 клас.
- №3.** Тисяча. Нумерація трицифрових чисел. Усне додавання і віднімання в межах 1000.
- №4.** Письмове додавання і віднімання чисел.
- №5.** Множення і ділення в межах 1000. Усне множення і ділення; множення і ділення розрядних чисел на одноцифрові.
- №6.** Ділення суми на число. Ділення виду $39 : 3$; $72 : 6$. Перевірка ділення і множення. Ділення виду $64 : 16$, $125 : 5$.
- №7.** Частини. Ділення з остачею.
- №8.** Повторення вивченого за рік.

Навчальне видання

БУДНА Наталя Олександрівна

МАТЕМАТИКА

Зошит для контрольних робіт

3 клас

Другий варіант

Головний редактор *Богдан Будний*

Редактор *Любов Левчук*

Обкладинка *Аліни Воронкової*

Комп'ютерна верстка *Тетяни Золоєдової*

Технічний редактор *Оксана Чучук*

Підписано до друку 30.01.2014. Формат 70x84/16. Папір офсетний. Гарнітура Таймс.
Умовн. друк. арк. 1,63. Умовн. фарбо-відб. 1,63.

Видавництво «Навчальна книга – Богдан»

Свідоцтво про внесення суб'єкта видавничої справи до Державного реєстру видавців, виготівників і розповсюджувачів видавничої продукції

ДК № 4221 від 07.12.2011 р.

Навчальна книга – Богдан, просп. С. Бандери, 34а, м. Тернопіль, 46002

Навчальна книга – Богдан, а/с 529, м. Тернопіль, 46008

тел./факс (0352)52-06-07; 52-19-66; 52-05-48

office@bohdan-books.com

www.bohdan-books.com

ISBN 978-966-10-3795-2



9 | 789661 | 037952 |