


1. Розглянь малюнок. Полічи об'єкти і впиши в клітинки відповідні числа.

Скільки на малюнку рибок? ☐ Скільки морських коників? ☐

Скільки клешень у рака? ☐ Скільки морських їжаків? ☐

Скільки черепах? ☐ Скільки кінцівок у морської зірки? ☐

Скільки медуз? ☐



2. $9 - 6 = \square$ $8 - 4 = \square$ $6 - 3 = \square$ $10 - 5 = \square$

$2 + 6 = \square$ $3 + 5 = \square$ $1 + 8 = \square$ $4 + 5 = \square$

3. Матвійко купив льодяник за 4 грн. Скільки гривень решти він отримав з 10 грн?

4. Де потрібно, доповни зображення, щоб вони відповідали назвам фігур.

Промінь


Пряма

Відрізок

Ламана

Підкресли відповідні назви.

- Піраміда
- Конус
- Куб
- Куля
- Трикутник
- Круг
- Циліндр



2. $5 + 6 - 7 = \square$ $9 - 4 - 4 = \square$ $6 + 3 - 5 = \square$
 $9 + 1 - 6 = \square$ $1 + 3 + 4 = \square$ $8 - 6 + 7 = \square$

3. Ліля віддала молодшій сестричці 4 ляльки, а потім ще 5 м'яких іграшок. Скільки всього іграшок віддала Ліля сестричці?

[illegible]

Відповідь: іграшок.

4. Упиши лише ті значення виразів, які дорівнюють числу 5.

$9 - 5 = \square$ $1 + 4 = \square$ $7 - 2 = \square$ $2 + 4 = \square$
 $3 + 2 = \square$ $8 - 3 = \square$ $10 - 4 = \square$ $6 - 1 = \square$

5. $7 \bigcirc 8 - 2$ $9 + 1 \bigcirc 10 - 1$ $4 + 4 \bigcirc 10 - 2$


$5 + 3 \bigcirc 9$ $8 - 6 \bigcirc 9 - 7$ $3 + 4 \bigcirc 8 - 0$

6. Котик і Півник замовили собі ковзани на всі лапи. Скільки пар ковзанів вони замовили?

[illegible]

Відповідь: пари ковзанів.

1. Збираючи мед, бджілка Майя обчислювала вирази ланцюжком. Покажи шлях бджілки, уписуючи значення виразів.



2. $2 + 2 + 2 = \square$ $3 + 3 + 3 = \square$ $10 - 3 - 3 = \square$
 $7 - 2 - 2 = \square$ $8 - 4 - 4 = \square$ $5 + 5 - 5 = \square$

3. У Юрка  і , а в Оксани — .

У кого більше грошей? Упиши відповідні числа й знак.

грн + грн грн

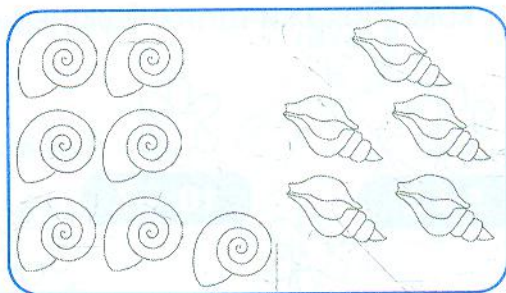

4. У будинку від вхідного майданчика до першого поверху 9 сходинок. Котик Мурчик піднявся на перший поверх, а потім опустився на 3 сходинки. Скільки сходинок йому залишилося подолати донизу?

Відповідь: сходинок.

5. Наталя збудувала хатинку для зайчика, використавши 5 білих цеглинок конструктора і стільки ж червоних. Зі скількох цеглинок збудована зайчикова хатка?


Відповідь: з цеглинок.

1. Склади нерівності за малюнками.



2. У першій скарбничці 8 монет, а в другій — жодної. Скільки монет разом у двох скарбничках? Склади рівність.

3. Від кожної фігури проведи стрілки до її можливих назв.



Замкнена ламана

Овал

Чотирикутник

Замкнена крива

4. В Арсена було 8 наклейок. Він подарував 2 наклейки Олі. Скільки наклейок залишилося в Арсена?

Відповідь: наклейок.

5. В Арсена було 8 наклейок. Оля подарувала йому ще дві наклейки. Скільки наклейок стало в Арсена?

Відповідь: наклейок.

1. Порівняй вартості купюр. Запиши шість нерівностей.



грн > грн

грн ○ грн

грн ○ грн

грн < грн

грн ○ грн

грн ○ грн

2. $10 + 8 = \square$

$7 + 10 = \square$

$14 - 4 = \square$

$12 - 10 = \square$

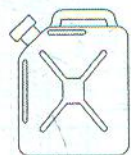
$11 + 1 = \square$

$17 - 1 = \square$

3. У кальмара на 2 щупальця більше, ніж у восьминога. Скільки щупалець у кальмара?

Відповідь: щупалець.

4. Склади й розв'яжи задачу за коротким записом.



— 10 л

Відповідь:



— ?, на 7 л менше

5. $2 \text{ кг} + 5 \text{ кг} \bigcirc 8 \text{ кг}$

$7 \text{ грн} - 3 \text{ грн} \bigcirc 2 \text{ грн} + 2 \text{ грн}$

$10 \text{ л} \bigcirc 5 \text{ л} + 4 \text{ л}$

$4 \text{ кг} + 4 \text{ кг} \bigcirc 10 \text{ кг} - 2 \text{ кг}$

$50 \text{ к.} + 50 \text{ к.} \bigcirc 1 \text{ грн}$

$20 \text{ грн} - 10 \text{ грн} \bigcirc 5 \text{ грн} + 10 \text{ грн}$