

Повторення вивченого за 1 клас.
Числа 1–100, 0. Обчислення

1. Прочитай числа. Підкресли лише одноцифрові числа.

1 18 4 22 9 5 48 3 90 8

2. Число 27 — це ...

A 2 дес. 7 од.

Б 7 дес. 2 од.

3. Підкресли найбільше число в ряду поданих чисел.

71 39 2 50 99 9

4. Обчисли.

$30 + 1$

$42 - 42$

$30 + 40$

$42 + 3$

$56 - 6$

$68 + 1$

$20 - 10$

$8 + 40$


$29 - 10$

$68 - 1$

$56 - 3$

$17 + 3$

5. Які числа «заховалися» під листочками? Виконай дії для їх знаходження.


 $+ 3 = 17$

$20 +$

 $= 50$

6. Яка довжина ламаної MON ? Обчисли.



Повторення вивченого за 1 клас.
Числа 1–100, 0. Обчислення

1. Прочитай числа. Підкресли лише двоцифрові числа.

1 21 8 37 3 40 4 65 5 9

2. Число 34 — це ...

А 3 дес. 4 од.

Б 4 дес. 3 од.

3. Підкресли найбільше число в ряду поданих чисел.

31 17 2 20 84 12

4. Обчисли.

$$50 + 1$$

$$23 - 23$$

$$20 + 30$$

$$34 + 2$$

$$45 - 5$$

$$78 + 1$$

$$40 - 10$$

$$6 + 50$$

$$37 - 30$$

$$78 - 1$$

$$53 - 2$$


$$18 + 2$$

5. Які числа «заховалися» під квіточками? Виконай дії для їх знаходження.

$$\text{🌻} + 5 = 19$$

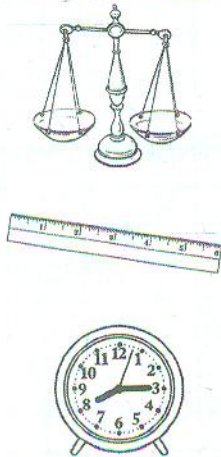
$$10 + \text{🌻} = 60$$

6. Яка довжина ламаної ABC ? Обчисли.



Величини

1. Знайди відповідність між приладами, їхніми величинами та одиницями вимірювання. З'єднай їх лініями.

	<p>Довжина</p> <p>Час</p> <p>Маса</p>	<p>1 рік</p> <p>1 хв</p> <p>1 год</p> <p>1 кг</p> <p>1 ц</p> <p>1 дм</p> <p>1 см</p> <p>1 м</p>
-----------------------------------------------------------------------------------	---------------------------------------	-------------------------------------------------------------------------------------------------

2. Запиши правильні рівності.

$10 \text{ см} = \square \text{ дм}$

$10 \text{ дм} = \square \text{ м}$

$40 \text{ см} = \square \text{ дм}$

$30 \text{ дм} = \square \text{ м}$

$45 \text{ см} = \square \text{ дм} \square \text{ см}$

$34 \text{ дм} = \square \text{ м} \square \text{ дм}$

3. Обчисли.

$15 + 3 - 4$

$68 - (10 - 2)$

$32 \text{ кг} + 20 \text{ кг}$

$28 - 5 + 4$

$17 + (23 - 20)$

$83 \text{ см} - 12 \text{ см}$

4. Довжина тіла білки 33 см. Воно коротше від її хвоста на 2 см. Яка довжина хвоста білки?