




6.42. Яка пам'ятка розташована в центрі одного з українських воєводств Речі Посполитої?



А Б В Г
□ □ □ □



6.43. У дворі якої будівлі розташований італійський дворик у ренесансному стилі?

- А вежа Корнякта
Б Чорна кам'яниця
В будинок Корнякта
Г Острозька вежа




А Б В Г
□ □ □ □

6.44. Яка з будівель належить до резиденції князя Василя-Костянтина Острозького?




А Б В Г
□ □ □ □

5. Установіть хронологічну послідовність створення архітектурних пам'яток.



	А	Б	В	Г
1				
2				
3				
4				

Б



В

Г

46. Розташуйте події в хронологічній послідовності.

- А утворення греко-католицької церкви
- Б видання Острозької Біблії
- В створення Хортицької Січі
- Г утворення Речі Посполитої

	А	Б	В	Г
1				
2				
3				
4				

47. Розташуйте події в хронологічній послідовності.

- А повстання Криштофа Косинського
- Б заснування реєстрового козацтва
- В створення Речі Посполитої
- Г повстання Северина Наливайка

	А	Б	В	Г
1				
2				
3				
4				

48. Розташуйте події в хронологічній послідовності.

- А створення Пересопницького Євангелія
- Б заснування Львівської братської школи
- В укладення Берестейської унії
- Г видання «Апостола» і «Букваря» Іваном Федоровичем у Львові

	А	Б	В	Г
1				
2				
3				
4				

49. Увідповідніть термін з його визначенням.

- | | |
|----------------|--|
| 1 «фільварок» | А вищий орган державного управління в Речі Посполитій |
| 2 «сейм» | Б адміністративно-територіальна одиниця Польщі |
| 3 «клейноди» | В символи гетьманської влади |
| 4 «воеводство» | Г суспільний стан вільних від кріпосного права людей, які займалися господарською діяльністю і обороняли Україну від іноземних загарбників |
- Д багатогалузеве господарство, що ґрунтувалося на панщині кріпаків і було орієнтоване на ринок

	А	Б	В	Г	Д
1					
2					
3					
4					