

Сонечко запрошує в гості

1 Поміркуй.

- ▶ У червні були лише сонячні та дощові дні: 20 сонячних і 10 дощових. Скільки всього днів у червні?

- ▶ У липні були лише похмури та ясні дні: 11 похмурих і 20 ясних. Скільки всього днів у липні?

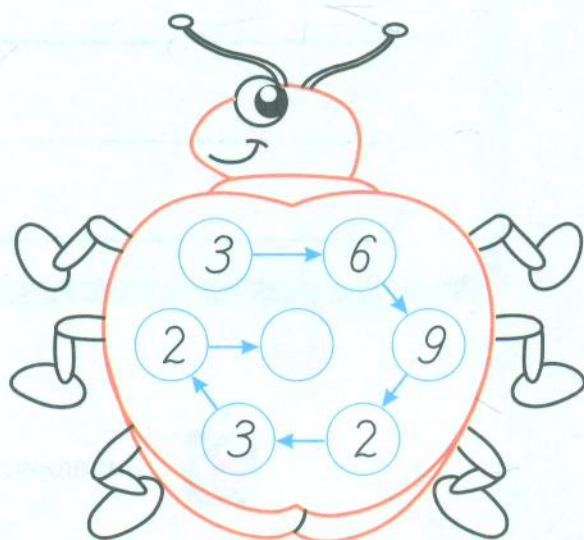
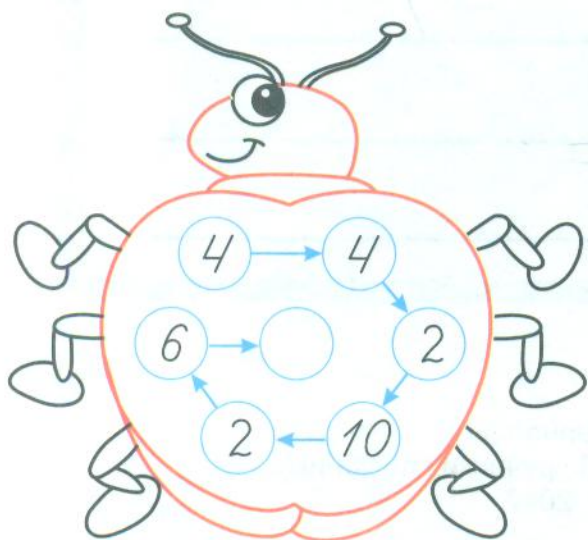
- ▶ У серпні були теплі, прохолодні та спекотні дні: 10 теплих, 10 прохолодних і 11 спекотних. Скільки всього днів у серпні?

2 Розв'яжи задачі.


- ▶ На осонні грілося 5 рудих котів і 3 чорні. Скільки всього котів грілося на осонні?

- ▶ Учора в сонячну погоду на грядці достигли і почервоніли 26 полуничок, а сьогодні — на 13 полуничок більше. Скільки полуничок достигло сьогодні?

3 Додай усі числа на сонечках і впиши суму в кружечку.




4 Склади вирази й обчисли їх значення.



$89 - 25 =$	
$89 -$	
$89 -$	
$89 -$	
$89 -$	
$89 -$	
$89 -$	
$89 -$	

5 У спеку квіти треба часто поливати. Дізнайся, скільки літрів води в кожному відрі. Замалюй відра так, щоб було зрозуміло, де води менше, а де — більше.

$36 - 23 = \square\square$
 $47 - 37 = \square\square$
 $16 + 12 = \square\square$
 $58 - 43 = \square\square$



6 Наведи жовтим кольором промені, зеленим — відрізки, червоним — прямі, синім — ламані.



7 Пригадай склад чисел 9 та 10.

8		2		3
	5		6	

7		6		9
	4		2	