
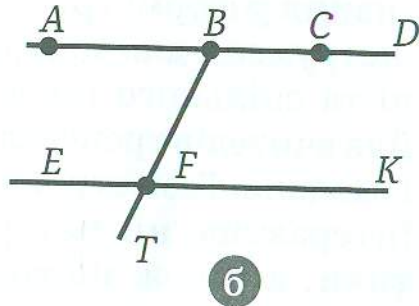
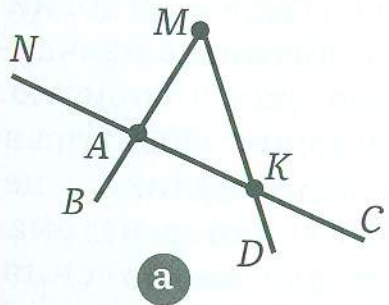


ТОЧКА. ПРЯМА. ПРОМІНЬ. ВІДРІЗОК

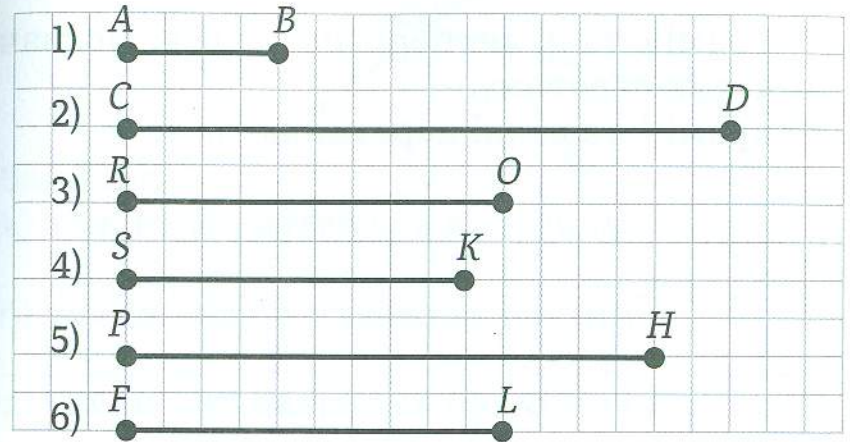
1. Під лінійку накресли: пряму 3 см, промінь 4 см, відрізок 2 см. Підпиши їх латинськими буквами. Поясни, чим схожі та чим відрізняються ці геометричні фігури.



2. Назви всі відрізки, прямі та промені, зображені на рисунку.



3. Виміряй та надпиши довжину відрізків. Запиши нижче відповідні назви відрізків.

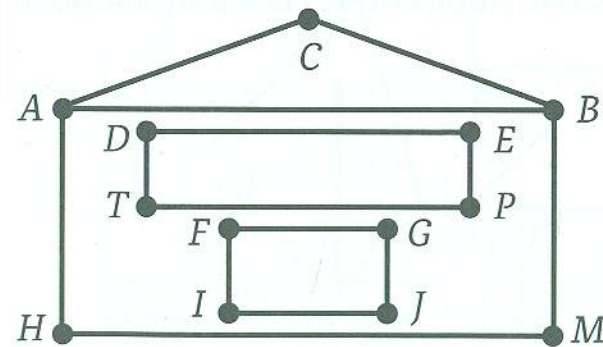


Найдовший відрізок _____

Найкоротший відрізок _____

Рівні відрізки _____

4. Порівняй довжини відрізків.



AC _____ GF

AB _____ BC

AC _____ CB

FG _____ DE

DE _____ AB

AB _____ GF