

Н.О. Будна
М.В. Беденко

МАТЕМАТИКА

Робочий зошит №1

3 клас

*(до підручника “Математика. 3 клас”
авт. Будна Н.О., Беденко М.В.)*



ТЕРНОПІЛЬ
НАВЧАЛЬНА КНИГА – БОГДАН

ББК 22.1я71
Б90

Рецензенти:
кандидат педагогічних наук, доцент
М.В. Козак
вчитель вищої категорії, старший вчитель
Н.Я. Походжай

Будна Н.О., Беденко М.В.

Б90 Математика: Робочий зошит №1. 3 клас
(до підручника “Математика. 3 клас”, авт. Будна Н.О., Беденко М.В.). —
Тернопіль: Навчальна книга–Богдан, 2010. — 64 с.

ISBN 978-966-10-1342-0

Зошит з математики для 3 класу містить навчальний матеріал, який відповідає чинній програмі Міністерства освіти і науки України та Державному стандарту початкової загальної освіти.

Робочий зошит №1 охоплює теми “Повторення вивченого за 2 клас. Сотня”, “Табличне множення і ділення” (продовження), “Додавання та віднімання в межах 1000”.

Зошит призначено для учнів 3 класу.

ББК 22.1я71

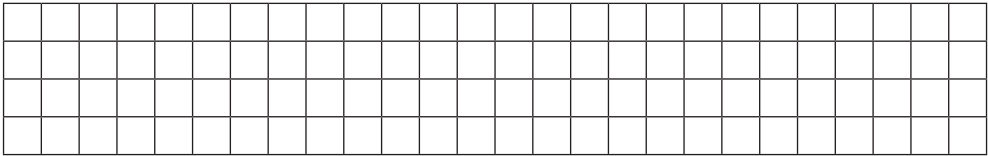
*Охороняється законом про авторське право.
Жодна частина цього видання не може бути відтворена
в будь-якому вигляді без дозволу автора чи видавництва.*

ISBN 978-966-10-1342-0



© Навчальна книга – Богдан,
майнові права, 2010

1	$70 + 20 =$	<input type="text"/>	$90 - 50 =$	<input type="text"/>	$54 + 1 =$	<input type="text"/>
	$80 + 20 =$	<input type="text"/>	$70 - 60 =$	<input type="text"/>	$98 + 1 =$	<input type="text"/>
	$60 + 10 =$	<input type="text"/>	$80 - 40 =$	<input type="text"/>	$98 - 8 =$	<input type="text"/>
	$40 + 50 =$	<input type="text"/>	$50 - 10 =$	<input type="text"/>	$98 - 90 =$	<input type="text"/>
	$30 + 40 =$	<input type="text"/>	$30 - 20 =$	<input type="text"/>	$98 - 1 =$	<input type="text"/>

2) Поблизу корабля пливло 26 дельфінів. 10 дельфінів пірнуло. Скільки дельфінів залишилося пливти поблизу корабля?

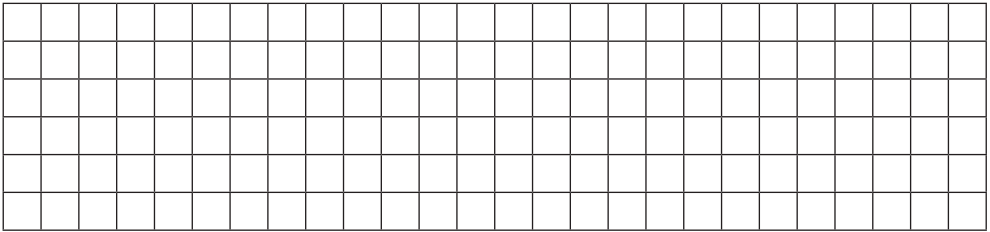


3) Сума крапочок на протилежних гранях кубика дорівнює 7. Скільки крапочок "потрапить" на порожні клітинки, коли кубик покотиться вперед? Запиши їх кількість.





1	$56 + 30 = \square\square$	$87 - 54 = \square\square$	$82 - 1 = \square\square\square$
	$44 + 50 = \square\square$	$54 - 31 = \square\square$	$82 + 1 = \square\square\square$
	$24 + 35 = \square\square$	$92 - 11 = \square\square$	$82 - 2 = \square\square\square$
	$32 + 64 = \square\square$	$69 - 46 = \square\square$	$82 - 80 = \square\square\square$
	$71 + 22 = \square\square$	$78 - 25 = \square\square$	$99 + 1 = \square\square\square$

2 На одній клумбі розквітло 22 куці троянд, а на другій — на 14 куців більше. Скільки всього куців троянд розквітло на двох клумбах?




3 Сума крапочок на протилежних гранях кубика дорівнює 7. Скільки крапочок “потрапить” на порожні клітинки, коли кубик покотиться вперед? Запиши їх кількість.




- 1** 
 24 см 2 дм 4 см
 7 м 70 см
 4 дм 4 см
 52 дм 2 дм 5 см
 3 м 6 дм 36 см

- 61 грн 16 грн
 42 кг 7 кг
 7 грн 14 грн
 63 кг 36 кг
 7 грн 7 грн

- 2** У п'яти однакових сувоях 45 м тканини. Скільки метрів тканини у семи таких сувоях?



- 3** Не виконуючи обчислень, перевір, чи правильно провели ланцюжок стрілочок зліва. Так само проведи стрілочки справа.



1

У	М	Т	И	П	Ш	Б	А	Л	К
0	1	2	3	4	5	6	7	8	9

$$200+200+2 = \begin{array}{|c|c|c|} \hline & & \\ \hline & & б \\ \hline \end{array}$$

$$600-500+74 = \begin{array}{|c|c|c|} \hline & & \\ \hline & & а \\ \hline \end{array}$$

$$200+70+2 = \begin{array}{|c|c|c|} \hline & & \\ \hline & & о \\ \hline \end{array}$$

$$500+400+4 = \begin{array}{|c|c|c|} \hline & & \\ \hline & & а \\ \hline \end{array}$$

$$250+250+38 = \begin{array}{|c|c|c|} \hline & & \\ \hline & & о \\ \hline \end{array}$$

$$800+100+2 = \begin{array}{|c|c|c|} \hline & & \\ \hline & & \\ \hline \end{array}$$


$$800-700+32 = \begin{array}{|c|c|c|} \hline & & \\ \hline & & б \\ \hline \end{array}$$

$$500-300+35 = \begin{array}{|c|c|c|} \hline & & \\ \hline & & а \\ \hline \end{array}$$

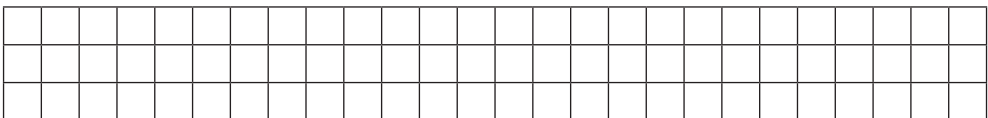
$$400+200+39 = \begin{array}{|c|c|c|} \hline & & \\ \hline & & \\ \hline \end{array}$$

$$200+600+34 = \begin{array}{|c|c|c|} \hline & & \\ \hline & & а \\ \hline \end{array}$$

2 За 5 рейсів вантажівка перевезла 15 контейнерів. Скільки рейсів має зробити ця вантажівка, щоб перевезти 21 контейнер?



3 Відстань від чоловічка до прапорця 9 клітинок. Чоловічок хоче пройти таку відстань, щоб попереду залишилось вдвічі більше клітинок, ніж він пройде. Познач кінець його шляху.



1

А	К	О	Л	В	Д	Г	У	Б	Н
0	1	2	3	4	5	6	7	8	9

$$350 + 50 + 30 = \begin{array}{|c|c|c|c|} \hline & & & \\ \hline & & & \text{д а} \\ \hline \end{array}$$

$$900 - 800 + 23 = \begin{array}{|c|c|c|c|} \hline & & & \\ \hline & & & \text{о с} \\ \hline \end{array}$$

$$310 + 310 + 3 = \begin{array}{|c|c|c|c|} \hline & & & \\ \hline & & & \text{о с} \\ \hline \end{array}$$

$$800 - 400 + 75 = \begin{array}{|c|c|c|c|} \hline & & & \\ \hline & & & \text{к а} \\ \hline \end{array}$$

$$480 + 20 + 23 = \begin{array}{|c|c|c|c|} \hline & & & \\ \hline & & & \text{я} \\ \hline \end{array}$$

$$1000 - 500 - 50 = \begin{array}{|c|c|c|c|} \hline & & & \\ \hline & & & \text{ч а} \\ \hline \end{array}$$

$$720 - 520 + 12 = \begin{array}{|c|c|c|c|} \hline & & & \\ \hline & & & \\ \hline \end{array}$$


$$1000 - 200 + 9 = \begin{array}{|c|c|c|c|} \hline & & & \\ \hline & & & \text{к а} \\ \hline \end{array}$$

$$420 + 80 + 28 = \begin{array}{|c|c|c|c|} \hline & & & \\ \hline & & & \text{а} \\ \hline \end{array}$$

$$900 - 300 + 78 = \begin{array}{|c|c|c|c|} \hline & & & \\ \hline & & & \text{к а} \\ \hline \end{array}$$

2 У двох палатках розташувалось 8 дітей. Скільки дітей поміститься в 7 таких палатках?

3 Ти ще не можеш виконати таке ділення, але здогадатися, який результат більший, ти в змозі. Проведи ланцюжок стрілочок від найменшої частки до найбільшої, як на зразку.





Навчальне видання

БУДНА Наталя Олександрівна
БЕДЕНКО Марко Васильович

МАТЕМАТИКА

Робочий зошит №1

3 клас

Головний редактор *Богдан Будний*
Редактор *Любов Левчук*
Обкладинка *Ростислава Крамара*
Комп'ютерна верстка *Надії Магальяс*

Підписано до друку 25.08.2010. Формат 70x100/16.
Папір офсетний. Гарнітура Прагматика.
Умовн. друк. арк. 5,20 Умовн. фарбо-відб. 5,20.

Видавництво «Навчальна книга – Богдан»
Свідоцтво про внесення до Державного реєстру видавців
ДК №370 від 21.03.2001 р.

Навчальна книга – Богдан, а/с 529, м. Тернопіль, 46008
тел./факс (0352) 52-06-07, 52-05-48, 52-19-66
publishing@budny.te.ua, office@bohdan-books.com
www.bohdan-books.com

ISBN 978-966-10-1342-0



9 789661 013420