

ДОДАВАННЯ ЧИСЕЛ У МЕЖАХ 10

Перш ніж додавати, я б радила повторити склад чисел.

Запиши на вітрилах склад кожного числа за зразком.



Виконай завдання на кораблі та склади приклади.

Пірат побачив
6 ворожих
кораблів.

доданок

+

Потім ще 3.

доданок

=

сума

Скільки всього
кораблів
наближається?

Скільки латок
на вітрилі?

+

Намалюй
ще 4.

=

Скільки
тепер латок?

Скільки
ілюмінаторів?

+

Намалюй ще 2.

=

Скільки
їх тепер?

ВІДНІМАННЯ ЧИСЕЛ У МЕЖАХ 10



Укажи стрілками,
як називається кожен
компонент виразу.


$$5 - 2 = 3$$

зменшуване від'ємник різниця

Усе ще плутаєш, де зменшуване,
а де від'ємник? Зменшуване стоїть
попереду, воно найбільше, саме
його зменшують. Після нього стоїть
від'ємник — число, яке віднімають
від зменшуваного — і маємо різницю.



Скільки чого з'їли
та випили гості? Закресли
предмети за зразком,
а потім обчисли вирази.



$$6 - 3 = \square$$




$$7 - 2 = \square$$




$$5 - 1 = \square$$



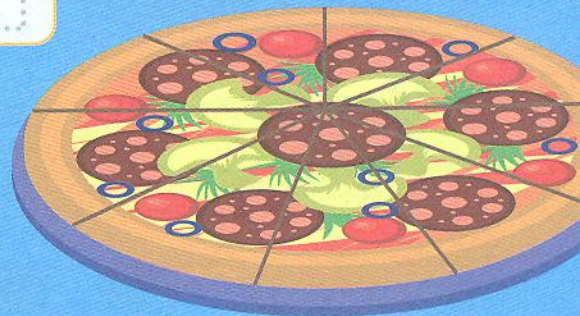
$$10 - 4 = \square$$



$$6 - 4 = \square$$



$$9 - 2 = \square$$



$$9 - 6 = \square$$

$$5 - 3 = \square$$

