

Марко Беденко

**ВЕСЕЛІ МАТЕМАТИЧНІ  
ПРОПИСИ  
ДЛЯ ДОШКІЛЬНЯТ**



Навчальна книга — Богдан  
Тернопіль

УДК 82-93(075.2)

ББК 83.8я71

Б38

**Беденко Марко**  
Б38      Веселі математичні прописи для дошкільнят /  
Марко Беденко. — Тернопіль : Навчальна книга — Богдан,  
2013. — 48 с.  
ISBN 978-966-10-3223-0

УДК 82-93(075.2)

ББК 83.8я71

*Охороняється законом про авторське право.  
Жодна частина цього видання не може бути відтворена  
в будь-якому вигляді без дозволу автора чи видавництва.*

---

*Навчальне видання*

**БЕДЕНКО Марко Васильович**

**Веселі математичні прописи  
Для дошкільнят**

Головний редактор *Богдан Будний*  
Редактор *Наталія Гаврішко*  
Ілюстрації *Олени Бадьонної*  
Обкладинка *Володимира Басалиги*  
Комп'ютерна верстка *Сергія Лещинського, Галини Тернопільської*

Підписано до друку 29.01.2013. Формат 84×108/16.

Папір офсетний. Гарнітура Прагматика.

Умовн. друк. арк. 5,04. Умовн. фарбо-відб. 20,16.

Видавництво “Навчальна книга — Богдан”  
Свідоцтво про внесення до Державного реєстру видавців  
ДК №370 від 21.03.2001 р.

Навчальна книга — Богдан, просп. С. Бандери, 34а, м.Тернопіль. 46002

Навчальна книга — Богдан, а/с 529, м.Тернопіль, 46008

тел./факс (0352) 52-06-07; 52-05-48; 52-19-66

office@bohdan-books.com

www.bohdan-books.com

ISBN 978-966-10-3223-0

© Навчальна книга — Богдан, 2013

Кожна дитина вчиться красиво писати. Для цього існують прописи — зручні, складені відповідно до навчальної програми, робочі зошити. Але цим непосидькам нудно виводити каліграфічно цифру за цифрою, букву за буквою.

Ми ж намагалися скласти прописи саме для таких дітей. Каліграфічні завдання у цьому посібнику чергуються із завданнями «подумати» й «уявити». Тому така робота не буде здаватися дітям монотонною.

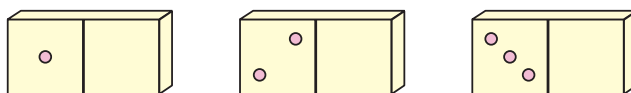
Вправи продумані так, щоби тренувати усі м'язи руки. Їх потрібно не просто виконати, а — дуже охайно.

Увага дітей постійно розсіюється, і навіть на написанні рядка одиниць їм важко сконцентруватися. Тому на кожному уроці ми пропонуємо одне-два завдання, де писати треба не багато, але охайно і красиво.


1. Виконай за зразком.





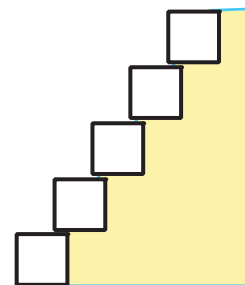
2. Намалюй на правому боці кісточки доміно стільки крапочок, скільки є на лівому. Підкресли ту кісточку, де нема крапочки посередині квадрата.



3. Виконай за зразком.




4. Намалюй на найнижчій сходинці па- личку, як показано на зразку , а на найвищій — .



5. Зафарбуй червоним кольором по дві квітки на кожному куці. Квіти, що залишилися, зафарбуй зеленим кольором.



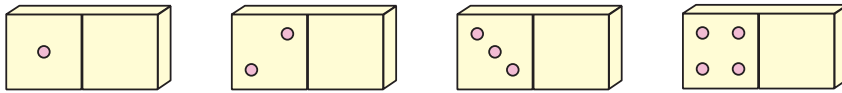
6. Намалюй під кожною зер- ниною колоска таку саму позначку, як над нею.



1. Виконай за зразком.




2. Намалюй на правому боці кісточки доміно стільки крапочок, скільки є на лівому.




3. Виконай за зразком.




4. Такі фігури називають трикутниками. Проведи лінію так, щоб вона не виходила за межі сірої лінії.




5. Виконай за зразком.




6. Тут житиме найкращий квадрат із завдання №5.




1. На п'єдесталі пошани одиниця розміщена найвище, двійка — ліворуч, а трійка — праворуч. Заповни клітинки на п'єдесталі пошани.




2. Виконай за зразком.




3. Підкресли будинок, тінь від якого зображено правильно.




4. Напиши.



5. Продовж ряд за стрілочками.



6. Тут житиме найкрасивіший грибочок із завдання №2.




1. Напиши.



2. Проведи лінію так, щоб вона не виходила за межі сірої лінії. Рухайся спочатку вздовж синьої, а потім червоної стрілки.




3. Продовж ряд за стрілочками.




4. Розфарбуй сірі стовпці таким самим кольором, як кубики, які несуть чоловічки.



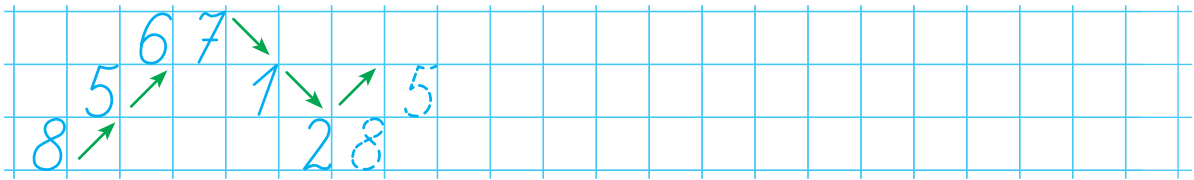
5. Виконай за зразком.




6. Напиши під кожною зерниною колоска таку саму цифру, як над нею.




1. Продовж ряд за стрілочками.




2. Ялинка, яка праворуч, — це відображення ялинки, яка ліворуч, заштрихуй її правильно й охайно.



3. Перепиши усі цифри із верхнього рядка в нижній.



4. Обведи по пунктирній лінії усі сірі шестерні.

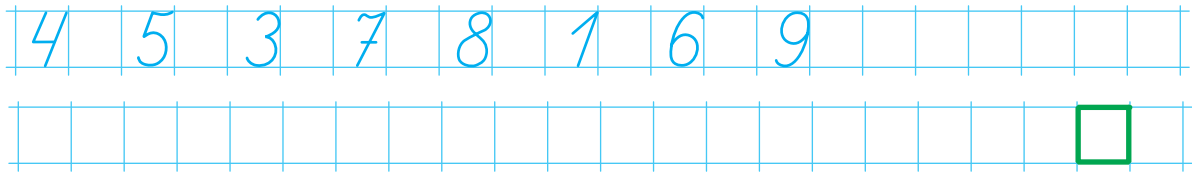


5. Напиши у клітинці цифру, яка найчастіше зустрічається у цьому уроці.

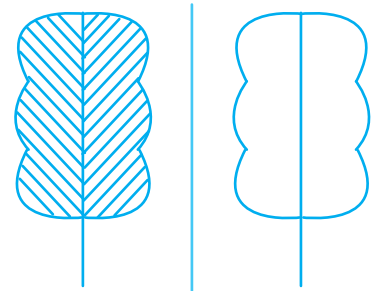




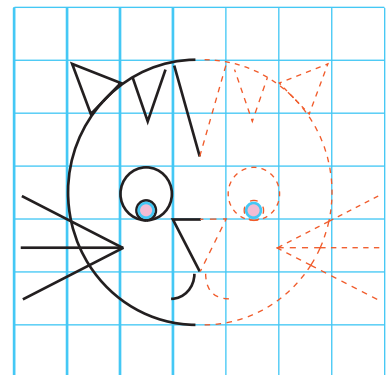
1. Перепиши цифри у порядку зростання. У рядку не вистачає однієї цифри, напиши її в зеленій клітинці.




2. Дерево, яке праворуч, — це відображення дерева, яке ліворуч, заштрихуй його правильно й охайно.



3. Обведи і розфарбуй.




4. Напиши під кожною зерниною колоска таку саму цифру, як над нею.



1. Напиши число десять. Скільки цифр містить це число?

--	--	--	--	--	--	--	--	--	--	--	--	--	--	--	--	--	--	--	--	--

2. Впиши у порожні клітинки всі числа від одного до десяти. Пам'ятай, що біля кожного пальця лівої та правої руки числа мають бути однаковими. Решту чисел запиши у клітинки під малюнком.



--	--	--	--	--	--