



Зіниці в овець і кіз дуже незвичайні — вони прямокутної форми. Це забезпечує тваринам чудовий огляд.


- 1 На лузі пасуться 36 овець, а кіз — у 4 рази менше. На скільки більше овець, ніж кіз, пасеться на лузі?





- 2 У першій отарі — 80 овець, а в другій — на 60 менше. Скільки овець у третій отарі, якщо в ній стільки ж овець, скільки в першій і другій разом?



- 3 Маса кози — 40 кг. Маса козла більша. Склади рівняння і визначи масу козла, якщо різниця між їхніми масами — 25 кг.





- 4 Від 2 корів надоїли по 10 л молока, а від 9 кіз — по 2 л молока. Від кого надоїли більше молока — від кіз чи від корів? На скільки більше?




Зимовий запас бурундуків різноманітний: зернятка пшениці, насіння, жолуді, горіхи, ягоди та гриби. При цьому різні продукти звірято не змішує і розкладає окремими купками.

- 13** У бурундучка в нірці 40 горіхів, жолудів та грибів. П'яту частину становлять жолуді, грибів — у 4 рази менше, ніж жолудів. Скільки горіхів у бурундучка в нірці?



- 14** У бурундучка в нірці 50 зерняток пшениці, що на 15 більше, ніж ягід. А насінин — на 7 менше, ніж ягід. Скільки всього зерняток пшениці, ягід та насінин у бурундучка в нірці?



- 15** Бурундук проспав 15 годин. Познач на годиннику, о котрій годині прокинувся бурундук.

Заснув



Прокинувся

- 16** Бурундучки переносять припаси в роті, за щоками. Бурундук знайшов купку горіхів. Він може їх перенести до нірки по 3 штуки за 8 разів. Скільки разів знадобиться бурундуку, щоб перенести цю купку, якщо він буде брати по 4 горіхи?

