

1 Обери потрібний знак.

11 13



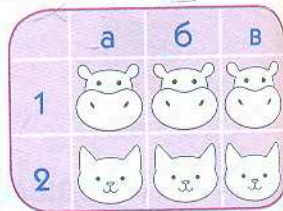
а) $>$; б) $<$; в) $=$.

2 У бідоні вміщується 10 л води, а в відрі — на 2 л менше. Скільки води вміщується у відрі?



на 2 л менше

а) 6 л; б) 8 л; в) 10 л.




- 1 До одного десятка паличок поклали ще 5 паличок. Скільки стало паличок?



а) 6;




б) 5;



в) 15.

- 2 Скільки копійок було у гаманці?



а) 16 к.;

б) 18 к.;

в) 19 к.



	а	б	в
1			
2			

- 1 Якими цифрами треба записати кількість кубиків?



- а) 4;
б) 14;
в) 41.

- 2 Мама купила 1 десяток ґудзиків і ще 5 штук. Скільки всього ґудзиків купила мама?



1 десяток



?


- а) 6; б) 15; в) 4.



	а	б	в
1			
2			

1 Хто з пташок обрав потрібний знак?

$$10 + 3 \square 18$$



а)



б)



в)

2 Петрик накреслив відрізок довжиною 1 дм, а Маринка накреслила відрізок, на 2 см коротший. Виміряй відрізки та оберий той, який накреслила Маринка.

а)






б)



в)



	а	б	в
1			
2		