



# Числа 1–60

Скільки вулиць у містечку?

Скільки будинків на кожній вулиці? Наклей відсутні будинки.



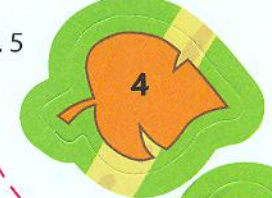
c.2



c.3



c.5



c.4

