



У завданнях 21–24 до кожного з чотирьох рядків інформації, позначених цифрами, виберіть один правильний, на Вашу думку, варіант, позначений буквою. Поставте позначки в таблиці бланка відповідей на перетині відповідних рядків (цифри) і колонок (букви).

21. Установіть відповідність між місцем розташування пам'яток архітектури та їхнім зображенням.



	А	Б	В	Г	Д
1					
2					
3					
4					

- А Хотин
- Б Кам'янець-Подільський
- В Луцьк
- Г Мукачево
- Д Львів

22. Установіть відповідність між термінами та їхніми визначеннями.

	А	Б	В	Г	Д
1					
2					
3					
4					

- 1 отаманщина
- 2 воєнний комунізм
- 3 інтервенція
- 4 червоний терор

- А примусове відчуження приватної власності державою
- Б заходи насильства, що до них вдавалися більшовики проти широких соціальних груп з метою придушення політичних і потенційних противників
- В масові селянські повстанські загони, що мали свого лідера та формально входили до складу державних військових формувань
- Г державна політика надзвичайних заходів, запроваджена більшовицькою владою Радянської Росії
- Д насильницьке втручання однієї чи кількох держав у внутрішні справи іншої держави, спрямоване проти її територіальної цілісності або політичної незалежності


23. Установіть відповідність між датами та воєнними операціями Червоної армії з визволення України від нацистів.

	А	Б	В	Г	Д
1					
2					
3					
4					

- 1 грудень 1943 – січень 1944 р.
- 2 січень–лютий 1944 р.
- 3 березень–квітень 1944 р.
- 4 квітень–травень 1944 р.

- А Нікопольсько-Криворізька
- Б Кримська
- В Одеська
- Г Житомирсько-Бердичівська
- Д Яссько-Кишинівська

24. Установіть відповідність між плакатами та історичними періодами їх створення.



	А	Б	В	Г	Д
1					
2					
3					
4					

- А повоєнна відбудова та розвиток (1946 – початок 1950-х років)
- Б політична й економічна лібералізація суспільства (1953–1964)
- В загострення кризи радянської системи (1965–1985)
- Г розпад Радянського Союзу та відродження незалежності України (1985–1991)
- Д незалежна Україна

У завданнях 25–27 розташуйте події в хронологічній послідовності. Поставте позначки в таблиці **бланка відповідей** на перетині відповідних рядків (цифри) і колонок (букви). Цифри 1 має відповідати вибраною Вами перша подія, цифри 2 – друга, цифри 3 – третя, цифри 4 – четверта.

25. Установіть хронологічну послідовність подій.

	А	Б	В	Г
1				
2				
3				
4				

- А проголошення Акта Злуки УНР та ЗУНР
- Б Варшавська угода між Директорією УНР та Польщею
- В Другий зимовий похід військ УНР
- Г Берестейський мирний договір між УНР та державами Четверного союзу