

ІГРИ НА
РОЗВИТОК УВАГИ
ТА МИСЛЕННЯ
3

Математичний
шифр



Дата:

Місяць:



- Запиши відповіді до запитань, використовуючи числа з таблиці. Число з таблиці може використовуватись лише один раз.

1	2	3
4	5	6
7	8	9



- Запиши два числа, що разом складуть 5. _____, _____
- Запиши два числа, що разом складуть 8. _____, _____
- Запиши два числа, що разом складуть 9. _____, _____
- Запиши два числа, що разом складуть 14. _____, _____

- Запиши назву казки, в якій використовується:
число 2

число 3

число 7









































Дата: _____
 Місяць: _____

Числа. Порівняння

ДЕНЬ
МАТЕМАТИКИ

4

У своїх поробках діти використали різні природні матеріали. Розглянь таблицю і дай відповіді на запитання.

Скільки різних видів матеріалів використали діти? _____

Скільки використали колосків? _____ Реп'яхів? _____

Чого більше? _____ На скільки? _____

Яка найменша кількість використаних матеріалів? _____

Скільки шишок і горіхів використали разом? _____

Скільки використали мушель? _____ Це більше чи менше від ялинових гілочок? Постав відповідний знак. _____